

Задания для 9 класса

Задание № 1.

Первое научное кругосветное плавание под руководством *этого исследователя* (рис. 1) XVIII в. было первым в истории своего государства – *четвёртой страны, снарядившей кругосветку*. Впоследствии его именем были названы род южноамериканских декоративных растений (рис. 2), остров и пролив в одном из архипелагов Тихого океана. *Название моря* вокруг архипелага было дано испанцами *в честь библейского царя*. *Страна, владеющая островами, занимает половину второго по площади острова мира* и носит название, включающее его имя. Этот же исследователь *основал первую колонию на архипелаге в Южной Атлантике*, вокруг которого в XX в. был вооружённый конфликт между занимавшей его европейской державой и соседней континентальной страной. Острова по сей день имеют спорную принадлежность и два варианта названия, один из

которых дан основателем первой колонии. *Назовите имя исследователя и выделенные в тексте курсивом географические объекты.*



Рис. 1



Рис. 2

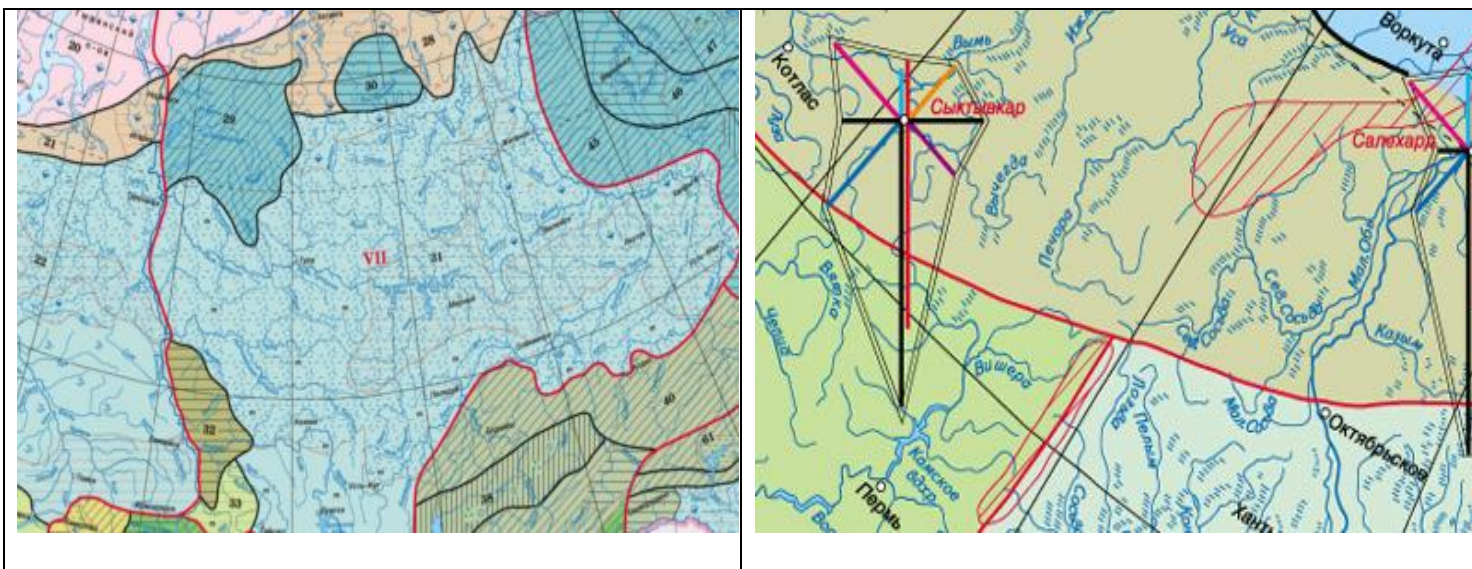
Задание № 2.

Какой природный район Северной Америки наиболее всего похож по своим природно-географическим условиям на территорию Иранского нагорья? Проиллюстрируйте свой ответ конкретными аргументами по выбранным вами критериям в сравнительно-географическом "ключе".

Задание № 3.

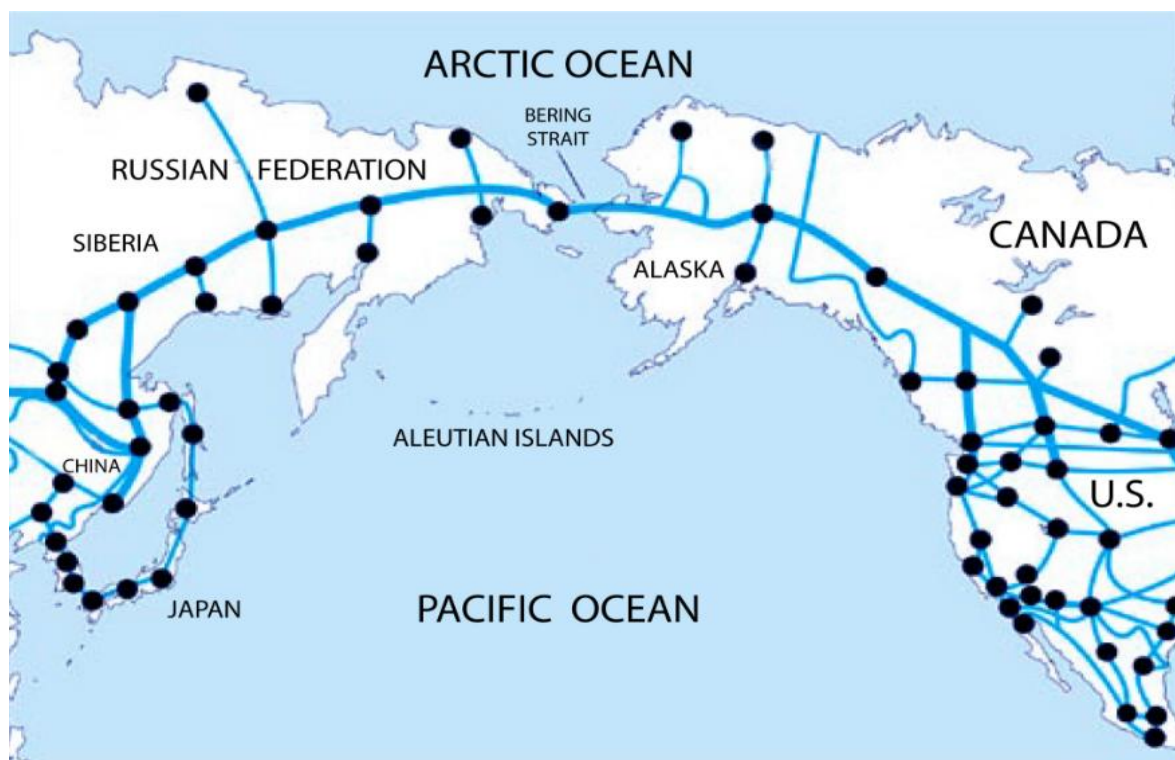
На приведённых ниже рисунках даны фрагменты карт и картосхем из Национального атласа России. Используя знания о способах изображения географических объектов и явлений на картах, определите тематику каждого из представленных фрагментов. Какой из представленных фрагментов имеет самый мелкий, а какой – самый крупный масштаб?

<p>Фрагмент №1</p>	<p>Фрагмент №3</p>
<p>Фрагмент №2</p>	<p>Фрагмент №4</p>



Задание № 4.

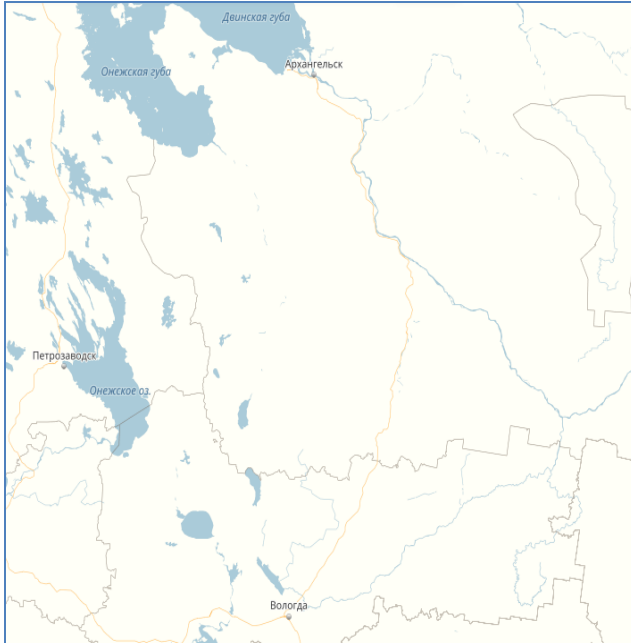
Один из возможных транспортных проектов на дальнюю перспективу – создание Азиатско-Американской (российско-американской) железной дороги, которая через Берингов пролив соединит Евразию с Северной Америкой. Какие основные проблемы (кроме политико-экономических) могут возникнуть при проектировании и строительстве этой железной дороги? Какие грузы и почему будет рационально перевозить этим путём?



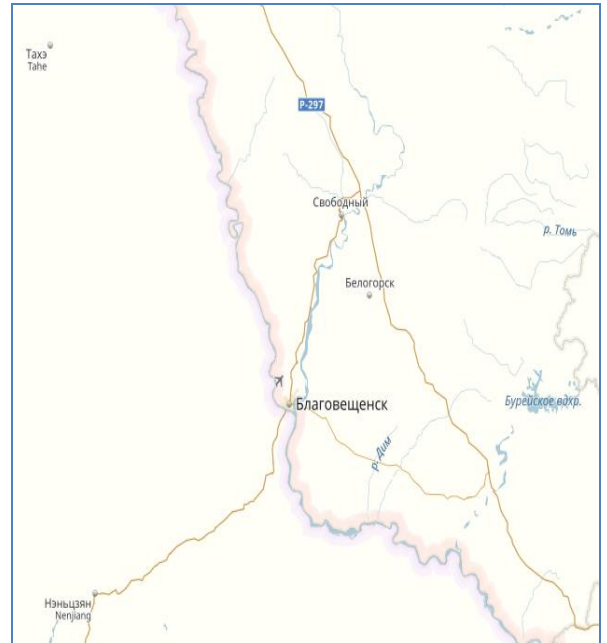
Задание № 5.

На предложенных участках территорий России расположено по одному объекту инфраструктуры, относящемуся к единому классу. Определите что это класс объектов и укажите их названия. В каких субъектах страны они располагаются? Какие факторы могут выступать в качестве основных при учёте их размещения?

А)



Б)



Задание № 6.



На фотографии изображена центральная часть исторического города нашей страны. Напротив кремля, через реку находится возвышенность, имеющая оригинальное название. Название состоит из двух слов. Первое – прилагательное, образованное от имени города, а второе – географический термин, которым обычно называют огромный массив суши, в тысячи раз больший, чем данная возвышенность.

Что это за город? В каком регионе России он располагается?

Какие две реки сливаются у города? Как называется возвышенность, контрастно поднимающаяся над низменными территориями?