

<b>Московская городская олимпиада школьников по технологии</b> <b>2012 года</b> <b>7-8 класс</b> <b>номинация «Культура дома и декоративно-прикладное творчество»</b>	<b>Номер участника</b>
--	------------------------

На выполнение тестовых заданий олимпиады по технологии отводится 1 час (60 минут).

Работа включает двадцать заданий. К каждому заданию дается указание, один или несколько ответов являются правильными, или инструкция по выполнению.

За каждый правильный ответ дается один или часть балла, если правильных ответов несколько. Баллы, полученные вами за все выполненные задания, суммируются. Постарайтесь выполнить как можно больше заданий и набрать как можно больше баллов.

1. Отметьте знаком «+» один правильный ответ

**Сколько времени требуется, чтобы сварить яйцо всмятку?**

а) 10 минут;                      б) 1-2 минут;                      в) 3-4 минуты

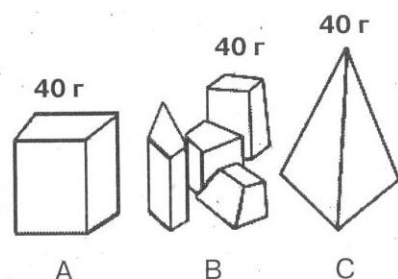
2. Отметьте знаком «+» один правильный ответ

**Сколько времени может храниться в холодильнике творог, не подвергавшийся специальной обработке?**

а) 2 недели;                      б) 5-6 часов;                      в) 2-4 дня

3. Отметьте знаком «+» один правильный ответ

**Какими кубиками льда можно быстрее охладить стакан воды?**



а) Куском на картинке А;

б) Кусочками на картинке В;

в) Кусочками на картинке С.

4. Отметьте знаком «+» один правильный ответ

**Что такое пастеризация молока?**

а) нагревание его до 80-85°C;

б) охлаждение;

в) заквашивание.

<p>Московская городская олимпиада школьников по технологии 2012 года 7-8 класс номинация «Культура дома и декоративно-прикладное творчество»</p>	<p>Номер участника</p>
--	------------------------

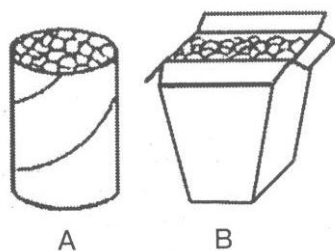
5. Отметьте знаком «+» один правильный ответ

**Сколько процентов от дневного рациона должен составлять обед?**

- а) 15%;                      б) 40%;                      в) 80%

6. Отметьте знаком «+» один правильный ответ

**В каком пакете мороженое растает быстрее?**



- а) в пакете А;  
б) в пакете В;  
в) одинаково.

7. Отметьте знаком «+» один правильный ответ

**Изделия из какой ткани, не прошедшей специальной обработки, меньше мнутся?**

- а) ситца;  
б) льняного полотна;  
в) крепдешина;  
г) драпа;  
д) лавсана.

8. Отметьте знаком «+» один правильный ответ

**Что служит сырьем для производства шелковых тканей?**

- а) древесина;  
б) кокон шелкопряда;  
в) хлопчатник;  
г) конопля

9. Отметьте знаком «+» все правильные ответы

**Какие ткани изготовлены из волокон животного происхождения?**

- а) капрон;  
б) ситец;  
в) альпака;  
г) крепдешин;  
д) марлевка.

<p>Московская городская олимпиада школьников по технологии 2012 года 7-8 класс номинация «Культура дома и декоративно-прикладное творчество»</p>	<p>Номер участника</p>
--	------------------------

10. Отметьте знаком «+» все правильные ответы

**По чему определяется перечная нить (уток) ?**

- а) по цвету;
- б) по кромке;
- в) по натяжению;
- г) по звуку

11. Отметьте знаком «+» все правильные ответы

**Какие ткани обладают низкими гигроскопичными свойствами?**

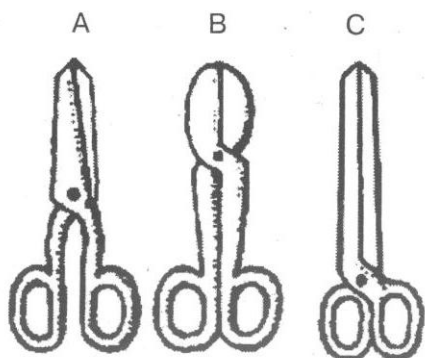
- а) льняное полотно;
- б) капрон;
- в) шерстяное сукно;
- г) марлевка;
- д) нейлон

12. Как в сокращенном виде обозначаются мерки?

- а) полуобхват груди \_\_\_\_\_;
- б) полуобхват талии \_\_\_\_\_;
- в) полуобхват бедер \_\_\_\_\_;
- г) длина изделий \_\_\_\_\_.

13. Отметьте знаком «+» один правильный ответ

**Какими ножницами легче кроить толстую ткань?**

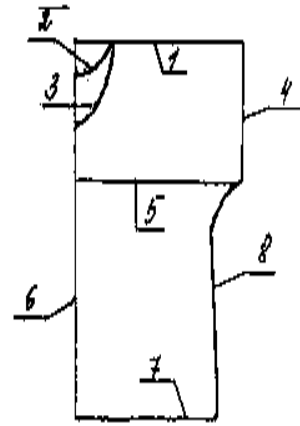


- а) ножницами А;
- б) ножницам В;
- в) ножницами С.

<p>Московская городская олимпиада школьников по технологии 2012 года 7-8 класс номинация «Культура дома и декоративно-прикладное творчество»</p>	<p>Номер участника</p>
--	------------------------

**14. Установи соответствие между номерами и**

- Линия бока \_\_\_\_\_ ;
- Линия низа \_\_\_\_\_ ;
- Линия середины изделия \_\_\_\_\_ ;
- Линия горловины спинки \_\_\_\_\_ ;
- Линия горловины переда \_\_\_\_\_ ;
- Линия груди \_\_\_\_\_ ;
- Линия плеча \_\_\_\_\_ ;
- Линия низа рукава \_\_\_\_\_ .



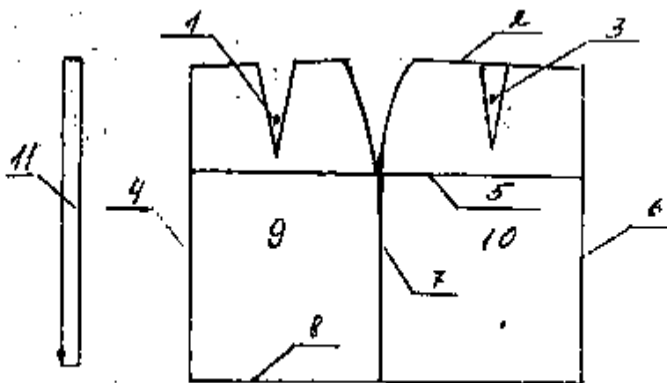
**15. Отметьте знаком «+» один правильный ответ**

**При раскладке выкройки на ткани НЕ учитываются:**

- а) особенности рисунка на ткани;
- б) величина припусков на швы;
- в) ширина ткани;
- г) направление нити основы;
- д) толщина ткани;
- ж) дефекты ткани

**16. Установи соответствие между номерами на чертеже и названиями:**

- пояс \_\_\_\_\_ ;
- линия бедер \_\_\_\_\_ ;
- заднее полотнище юбки \_\_\_\_\_ ;
- переднее полотнище юбки \_\_\_\_\_ ;
- линия бока \_\_\_\_\_ ;
- середина заднего полотнища \_\_\_\_\_ ;
- линия низа \_\_\_\_\_ ;
- середина переднего полотнища \_\_\_\_\_ ;
- линия талии \_\_\_\_\_ ;
- передняя вытачка \_\_\_\_\_ ;
- задняя вытачка \_\_\_\_\_ .



<p>Московская городская олимпиада школьников по технологии 2012 года 7-8 класс номинация «Культура дома и декоративно-прикладное творчество»</p>	<p>Номер участника</p>
--	------------------------

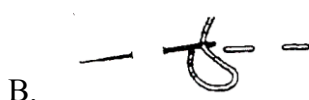
**17. Модельеры-конструкторы используют определенные правила для сокращенной записи мерок. Как модельер-конструктор одежды для собак сокращенно обозначит мерку «Обхват хвоста»?**

**Ответ:** \_\_\_\_\_.

**18. Каков будет размер плечевого изделия, если обхват груди составляет 96 см?**

**Ответ:** \_\_\_\_\_.

**19. Установите соответствие между названием ручных стежков и их изображением:**



1. Вперед иголку

2. Стебельчатый

3. Тамбурный

**Ответ:** \_\_\_\_\_.

**20. На сколько рублей подешевело швейное изделие стоимостью 1100 рублей, если при распродаже на него была скидка 10%.**

**Ответ:** \_\_\_\_\_.