

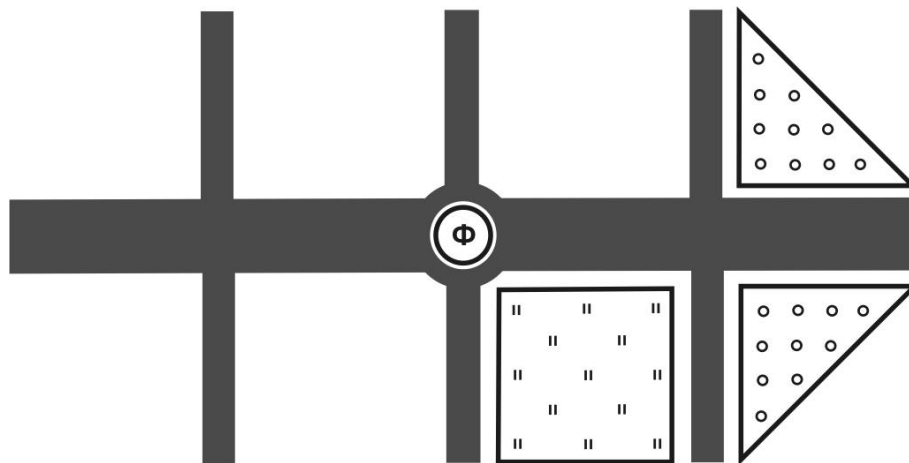
### 6 класс Вариант 1.

1. Назовите крупнейшие реки России, которые в своих верхних частях течения образуются на основе слияния двух рек, имеющих разное название. Заполните таблицу.

Название главной реки	Название двух рек, составляющих её	Название моря, куда впадет река	Название океана, частью которого является море


2. В XVII-XVIII веках во Франции большую популярность приобрели регулярные парки (парки, имеющие геометрически правильную симметричную планировку). На план парк, представленный **НА ЛИСТЕ ОТВЕТОВ**, нанесите дополнительно три квадратных газона с травой и цветами и две треугольные клумбы с деревьями, чтобы получился французский регулярный парк.

Рассчитайте площадь, занятую деревьями и участками с газоном, если известно, что масштаб плана 1:1000. Где, по вашему мнению, должен находиться главный дом? Расположите его на плане (дом в плане имеет форму прямоугольника со сторонами 50 м и 10 м).



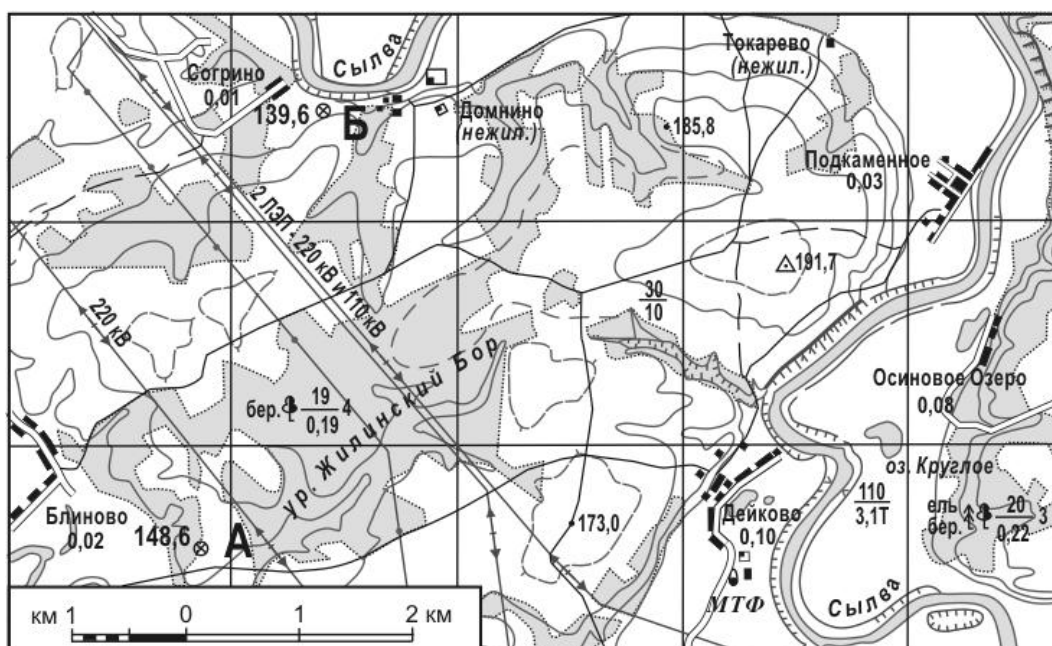
Φ - фонтан

3. На фотографиях представлены четыре известнейших объекта, находящиеся в разных странах мира. Назовите их и определите географические координаты городов, в которых они находятся (с точностью до 1°).



4. Перед Вами фрагмент топографической карты. Внимательно посмотрите на карту и выполните задания:

1. Найдите на карте точки А (148,6) и Б (139,6), определите кратчайшее расстояние между ними.
2. Найдите самую высокую точку, лежащую на отрезке АБ. Определите ее высоту над уровнем моря с точностью до десятых долей метра.
3. Отрезок АБ проходит через урочище Жилинский бор. Какие деревья преобладают в лесу в пределах данного урочища?
4. Восточнее Жилинского Бора (на берегу реки Сылва) расположен элемент (форма) рельефа. Как он называется? Укажите его глубину.
5. Каковы ширина и глубина реки Сылва в районе деревни Дейково?



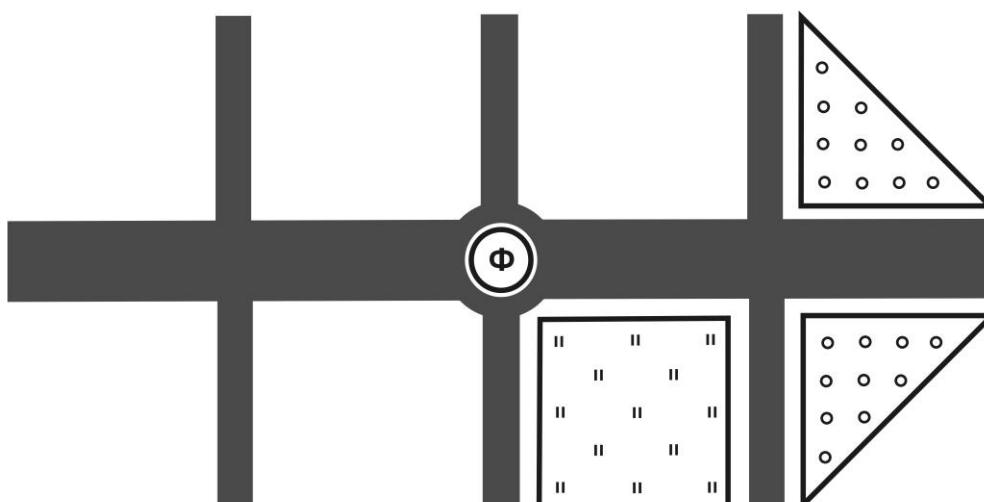
## 6 класс Вариант 2.

1. Назовите крупнейшие реки России, которые в своих верхних частях течения образуются на основе слияния двух рек, имеющих разное название. Заполните таблицу.

Название главной реки	Название двух рек, составляющих её	Название моря, куда впадет река	Название океана, частью которого является море



2. В XVII-XVIII веках во Франции большую популярность приобрели регулярные парки (парки, имеющие геометрически правильную симметричную планировку). На план парк, представленный **НА ЛИСТЕ ОТВЕТОВ**, нанесите дополнительно три квадратных газона с травой и цветами и две треугольные клумбы с деревьями, чтобы получился французский регулярный парк.

Рассчитайте площадь, занятую деревьями и участками с газоном, если известно, что масштаб плана 1:1000. Где, по вашему мнению, должен находиться главный дом? Расположите его на плане (дом в плане имеет форму прямоугольника со сторонами 50 м и 10 м).



Φ - фонтан

3. На фотографиях представлены четыре известнейших объекта, находящиеся в разных странах мира. Назовите их и определите географические координаты городов, в которых они находятся (с точностью до  $1^\circ$ ).



4. Перед Вами фрагмент топографической карты масштаба 1:100000. Внимательно посмотрите на карту и выполните задания:

1. Найдите на карте точки А (173,0) и Б (191,7), рассчитайте кратчайшее расстояние между ними.
2. Найдите самую низкую точку рельефа, лежащую на отрезке АБ. Укажите ее высоту над уровнем моря с точностью до десятков метров.
3. Какие деревья преобладают в лесу на правом берегу реки Сылва?
4. Какова скорость течения реки Сылва в районе деревни Дейково?
5. Укажите, какие высоты на карте соответствуют горизонталям с бергштрихами?

