

8 класс

Часть А

Задание 1

1.1. В каком ряду перечислены типы мировоззрения

- а) научное, обыденное, религиозное
- б) социальное, сословное, классовое
- в) народное, элитарное, массовое
- г) гражданское, уголовное, правовое

Ответ а

1.2. Сфера жизни общества, включающая в себя различные социальные общности и связи между ними:

- а) политическая
- б) духовная
- в) социальная
- г) экономическая

Ответ в

1.3. Верны ли следующие суждения о глобальных проблемах человечества?

А. Понятие «глобальные проблемы» появилось во второй половине XX столетия

Б. Появление глобальных проблем является причиной перехода от индустриального общества к постиндустриальному

- а) верно только А
- б) верно только Б
- в) верны оба суждения
- г) оба суждения не верны

Ответ а

1.4. Электорат - это

- а) руководящая верхушка официальных руководителей государственной власти
- б) круг избирателей, которые голосуют за определенную партию на парламентских, президентских или муниципальных выборах
- в) лица, принадлежащие к постоянному населению данного государства
- г) социальная группа, обладающая закрепленными в обычае или законе и передаваемыми по наследству правами и обязанностями

Ответ б

1.5. К средствам общения относится

- а) мимика
- б) конфликт
- в) обмен информацией
- г) ситуация

Ответ а

1.6. К правоохранительным органам относится

- а) Центральный банк
- б) Федеральная налоговая служба
- в) Верховный суд
- г) Администрация Президента

Ответ в

1.7. Политический плюрализм - это:

- а) наличие и признание свободного существования и развития различных этнических культур в составе единой национальной общности
- б) установленное законом требование, которому должно удовлетворять физическое лицо, чтобы обладать активным или пассивным избирательным правом

в) наличие многопартийности, различных общественных объединений, союзов, движений и формирований

г) форма политической организации общества, при которой вся полнота управления принадлежит единому субъекту политики

Ответ в

1.8. Верны ли следующие суждения о безработице?

А. Безработица – это неотъемлемый элемент трудовых отношений в условиях рынка.

Б. Безработица возникает в том случае, когда количество рабочих мест превосходит количество желающих найти работу

а) верно только А

в) верны оба суждения

б) верно только Б

г) оба суждения не верны

Ответ а

1.9. Обеспечение защиты основ конституционного строя, основных прав и свобод личности, верховенства и прямого действия Конституции России – является целью полномочий:

а) Федерального Собрания России

б) Верховного суда России

в) Генеральная Прокуратура Российской Федерации

г) Конституционного Суда России

Ответ г

Задание 2

Какие из представленных утверждений, являются верными?

1. Адаптация, индивидуализация, интеграция – это стадии становления личности.

2. Для политической системы государств с недемократическим политическим режимом характерна конкуренция при формировании высших органов государственной власти.

3. Ратификация – это утверждение международного договора (документа) высшим органом законодательной власти государства.

4. Право граждан на судебную защиту реализуется при подаче заявления в полицию.

5. Талант – это совокупность свойств человека, благодаря которым обеспечивается его деятельность.

6. В условиях рыночного равновесия, объем спроса и предложения находится на уровне выгодном для домохозяйств и фирм.

7. К прямым налогам относится налог на добавленную стоимость.

8. Социальные конфликты могут быть локальными, масштабными и глобальными.

9. Валюта – это цена денежной единицы одной страны, выраженная в денежных единицах другой страны.

1,3,6,8

Задание 3

Что является лишним в ряду?

3.1. 1) деятельность, 2) мотив, 3) гипотеза, 4) потребность, 5) результат

3.2. 1) следователь; 2) прокурор; 3) истец; 4) ответчик; 5) судья

3.3. 1) акция; 2) облигация; 3) вексель; 4) квитанция; 5) чек

3.4. 1) анализ; 2) синтез; 3) дедукция; 4) вывод; 5) аналогия

Ответы:

3.1	3.2	3.3	3.4
3	1	4	4

Задание 4

Из приведенного списка выделите формы коммерческих организаций, записав их буквенные обозначения.

- А. Государственное унитарное предприятие.
- Б. Благотворительный фонд.
- В. Акционерное общество.
- Г. Потребительский кооператив.
- Д. Хозяйственное общество.
- Е. Частное учреждение.
- Ж. Производственный кооператив.

Ответ: А, В, Д, Ж.

Задание 5.

Замените выделенный курсивом фрагмент обществоведческим термином.

5.1. Совокупность основных принципов и норм, писаных или неписаных, в соответствии с которыми осуществляется управление государством, определяется его общественное устройство, закрепляет нормы взаимоотношений граждан и государства.

5.2. Фантастическая, вымышленная картина мира в целом и место в нем общества и человека является изображением событий народной жизни в свете религиозного верования.

5.3. Результат социального становления индивида предполагает способность человека «быть господином себе» благодаря добровольно выбранным жизненным принципам.

Ответы:

5.1	конституция
5.2	миф
5.3	личность

Задание 6. Установите соответствие.

6.1 Установите соответствие между политическими режимами и конкретными историческими примерами: к каждой позиции, данной в первом столбце, подберите соответствующую позицию из второго столбца. Ответы несите в таблицу.

Исторические примеры	Политический режим
А) В стране Z изучение книги, написанной главой государства, обязательно для изучения в школах страны. Отдельные фрагменты заучиваются наизусть. Сам глава государства именуется вождем нации.	1) демократический
Б) Экономика страны N находилась на стадии государственно-монополистического капитализма, в рамках которого ограниченно использовались элементы планирования, экономического программирования и другие инструменты вмешательства государства в экономические процессы.	2) тоталитарный
В) По Конституции страны R (ст. 89) в Совет Республики при Президенте входят лидеры как большинства, так и меньшинства в Палате Представителей и Федеральном Сенате.	3) авторитарный
Г) В стране L 30-х гг. XX века, тайная полиция вела преследование инакомыслящих, недовольных и противников власти. Занималась расследованиями деятельности всех враждебных режиму сил, при этом ее деятельность была выведена из-под надзора административных судов, в которых обычно обжаловались действия государственных органов.	
Д) Корпорации в стране S 30-х гг. XX века, были профсоюзами, в которые входили как наниматели, так и	

наемные рабочие. Предполагалось, что каждая корпорация, контролируя отдельную отрасль, сведет до минимума конкуренцию в промышленности и мобилизует производственный потенциал в интересах всего общества.				
А	Б	В	Г	Д

Ответ

А	Б	В	Г	Д
2	3	1	2	3

6.2. Установите соответствие между конкретными потребностями человека и типами потребностей: к каждой позиции, данной в первом столбце, подберите соответствующую позицию из второго столбца. Ответы внесите в таблицу.

ПОТРЕБНОСТИ	ТИПЫ ПОТРЕБНОСТЕЙ			
А) Проголодавшиеся Петр, Василий и Николай бегут на перемене в школьную столовую.	1) биологические			
Б) Татьяна, желая узнать новые для себя области духовной культуры, пошел на курсы обучения китайской живописи и каллиграфии.	2) социальные			
В) Придя домой с прогулки в зимний день Анна поторопилась выпить горячего чая с медом, чтобы согреться.	3) духовные			
Г) Николай любит ходить в школу еще и потому, что там он встречается со своими лучшими друзьями.				
Д) Александр никогда не пропускает премьеры в столичных театрах.				
А	Б	В	Г	Д

Ответ

А	Б	В	Г	Д
1	3	1	2	3

6.3.

Установите соответствие между частями государственного бюджета и конкретными статьями, их иллюстрирующими: к каждой позиции, данной в первом столбце, подберите соответствующую позицию из второго столбца. Ответы внесите в таблицу.

СТАТЬИ ГОСУДАРСТВЕННОГО БЮДЖЕТА	ЧАСТИ ГОСУДАРСТВЕННОГО БЮДЖЕТА			
А) проценты по государственным облигациям	1) расходные статьи			
Б) таможенные пошлины	2) доходные статьи			
В) обслуживание государственного долга				
Г) выплата жалования госслужащим				
Д) налог на добавленную стоимость				
А	Б	В	Г	Д

Ответ

А	Б	В	Г	Д
1	2	1	1	2

Задание 7.

Прочитайте приведённый ниже текст, в котором пропущен ряд слов. Выберите из предлагаемого списка слова, которые необходимо вставить на место пропусков.

Неверно рассматривать гражданское общество как нечто по сути своей «мягкое», а **(А)** и предпринимательство – как нечто «жесткое». В развитых странах дух гражданского общества пронизывает и «жесткие» сегменты жизни. Элементом гражданского общества может служить сильная местная **(Б)**, за которой стоят высокая степень собираемости **(В)** и **(Г)** избранная местная власть. Таким же элементом может быть высокоразвитый и гибкий мелкий бизнес. Иначе говоря, водораздел проходит не между «жесткими» и «мягкими» сегментами общественной жизни, а между централизованными и децентрализованными, **(Д)** и местными структурами.

Открытое общество и **(Е)** являются, в сущности, всего лишь формами. Они сами не создают **(Ж)** солидарности или чувства принадлежности к общему делу. Свободные общества нуждаются в институциональной базе, которая позволила бы осуществлять необходимые социальные **(З)**, не прибегая к **(И)**; но им необходимо также чувство сплоченности, формирующее фундаментальные общины **(К)**. Открытое общество является как бы формой свободы; гражданское общество наполняет его содержанием, порождая атмосферу общественной **(Л)**. Это не просто сплоченность ради нее самой, которую мог бы породить, например, национализм или тоталитарное государство. Это сплоченность вокруг бескорыстной, добровольной, подлинно демократичной гражданской **(М)**.

Слова в списке даны в именительном падеже, единственном числе. Каждое слово может быть использовано только один раз. Обратите внимание на то, что слов в списке больше, чем вам потребуется для заполнения пропусков. Ответы внесите в таблицу. Под буквенным обозначением пропуска, впишите цифру, которой обозначен соответствующий термин или понятие.

1)	деятельность	7)	законный	13)	ценность
2)	межличностный	8)	насилие	14)	государственный
3)	авторитарный	9)	солидарность	15)	налог
4)	реформа	10)	государство	16)	ответственный
5)	замкнутость	11)	политический	17)	федеральный
6)	автономия	12)	свобода	18)	демократия

А	Б	В	Г	Д	Е	Ж	З	И	К	Л	М

Ответ:

А	Б	В	Г	Д	Е	Ж	З	И	К	Л	М
10	6	15	7	17	18	2	4	8	13	9	1




Задание 8.



Составьте таблицу, используя все расположенные ниже компоненты.

1. Озаглавьте таблицу.

2. Впишите порядковые номера компонентов таблицы в соответствии с изображениями в ячейки. (первый ряд – иллюстрация, второй ряд – географические карты, третий ряд – текстовые фрагменты.)

Название таблицы	Типы _____
---------------------	------------

			
№ иллюстрации			
№ карт			
Текстовые фрагменты			

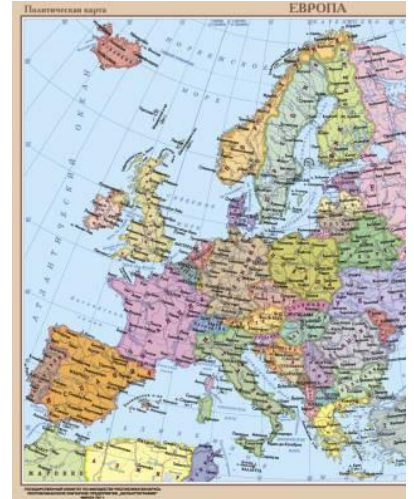
		«Торговля акциями – это единственная сфера жизни, где победа всегда достается тем, кто в меньшинстве, а не тем, кто в большинстве». Джон Кейнс
1	2	3

«Туареги — прежде всего пастухи, земледелием они практически не занимаются, иногда лишь ради прокорма. Обработка земли считается у них унижительным. Земля как таковая, принадлежит вождю (аменокалю), он сдает ее в аренду, за это ежегодно получает налог с урожая (меск) из расчета около 10 килограммов с участка. Право землепользования принадлежит тому, кто обработал участок первым.»

4



5



6



7



8

«Экономический контроль неотделим от контроля над всей жизнью людей, ибо, контролируя средства, нельзя не контролировать и цели».

Фридрих Август фон Хайек

9

ОТВЕТ

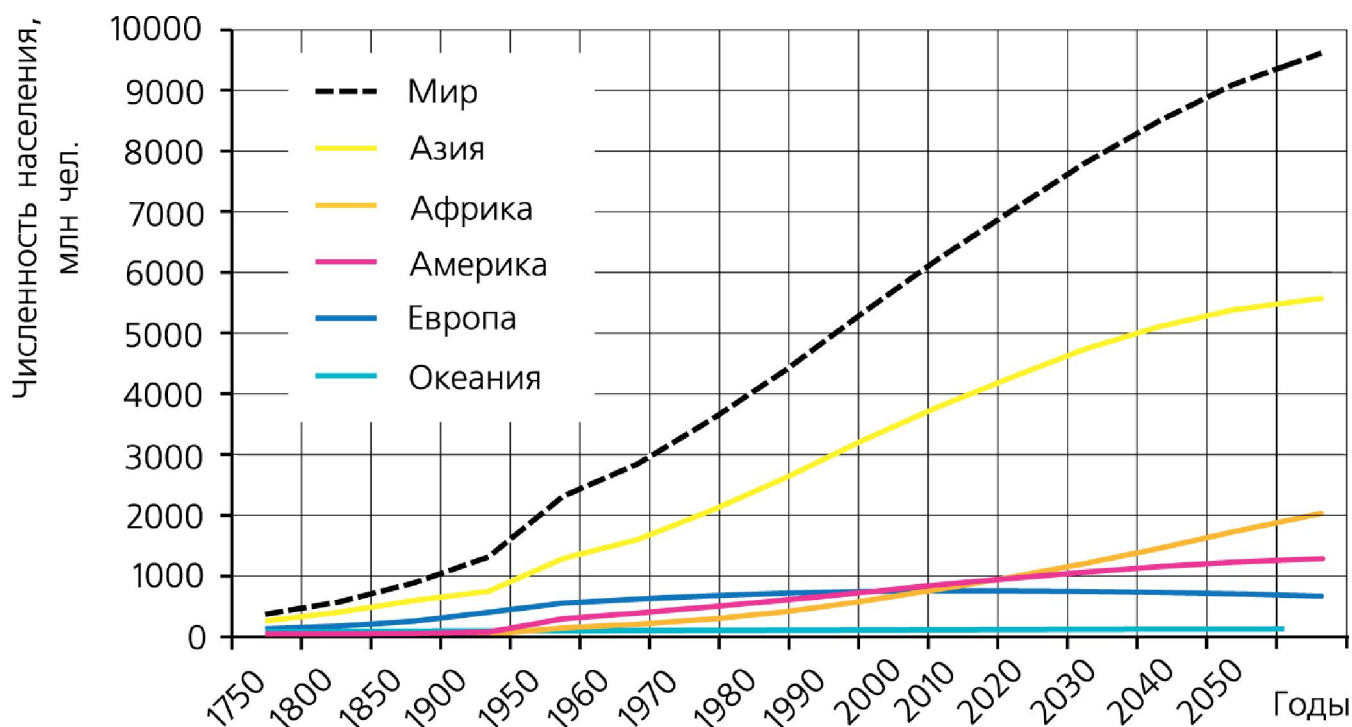
Название таблицы	Экономические системы		
№ иллюстрации	1	5	7

й			
№ карт	8	2	6
№ Текстовых фрагментов	4	9	3

Часть Б.

Задание 1.

Перед вами диаграмма, иллюстрирующая динамику численности населения мира. Проанализируйте ее. Оцените сделанные ниже суждения. Вы можете согласиться с каждым предложенным ниже суждением или опровергнуть его. Свое мнение необходимо подтвердить данными диаграммы.



1. Наименьшие изменения в численности населения наблюдаются в Океании.

ОТВЕТ: ДА, ЭТО ТАК. С середины XX века и, согласно прогнозам, до середины XXI века, численность населения Океании практически не меняется.

2. Рост численности населения в Америке на протяжении XVIII-XXI столетий опережал рост численности населения в Европе.

ОТВЕТ: НЕТ, ЭТО НЕ ТАК. По данным диаграммы очевидно, что численность населения Европы была выше численности населения Америки до 2000-х годов. Согласно имеющимся данным и прогнозам, только к 2020-му году численность населения Америки превысит европейское население. ».

3. Тенденция непрерывного роста населения в XVIII-XXI столетиях наблюдается как в Азии, так и в Африке.

ОТВЕТ: НЕТ, ЭТО НЕ ТАК. Согласно данным диаграммы непрерывный рост наблюдается только в азиатских странах, тогда как в Африке он начинается только с середины XX века.

По 2 балла за каждое верное утверждение.

До 3 баллов за каждое объяснение.

Всего за задание 1 - 15 баллов

Задание 2. Ознакомьтесь с текстовым фрагментом и выполните предложенные ниже задания.

Многие великие мыслители прошлого представляли человеческое общество как носитель непрекращающейся тотальной вражды всех и каждого. Т. Гоббс называет естественное состояние человечества, еще не ограниченное существованием государства и законов, «войной всех против всех». «Человек человеку волк», — гласит старая латинская пословица.

Действительно, каждый человек и каждая социальная группа имеют конкретные экономические, политические, социальные интересы и очень часто они оказываются противоположными аналогичным интересам других людей и социальных групп. Гегель пишет: «Человек ставит себе цели из себя и черпает из себя материал своих действий; доводя эти цели до последней крайности, зная и желая лишь себя в своей особенности и отменяя всеобщее, человек зол, и этим злом является его субъективность».

Вопрос 1. Какое социальное явление, отразилось в данном текстовом фрагменте.

ОТВЕТ:

социальный конфликт.

2 балла

Если социальное явление определено неверно или не названо, то за все ответы к заданию 2, выставляется 0 баллов.

Вопрос 2. Как называется социальная наука, основным объектом изучения которой является данное социальное явление? Используя приведенный текстовый фрагмент и обществоведческие знания, назовите не менее трех аспектов данного социального явления, изучаемой указанной вами наукой.

ОТВЕТ

Наука: конфликтология (социология) 2 балла

Аспекты:

Причины возникновения конфликтов, механизмы и закономерности развития конфликтных ситуаций, возможности и способы их предупреждения, локализации, минимизации и разрешения.

Могут быть приведены другие аспекты или другие формулировки

По 3 балла за каждый названный аспект

Всего за вопрос 2. 11 баллов

Вопрос 3. С какими другими социальными науками (кроме названной вами) связано изучение данного явления? Назовите две науки и обоснуйте с помощью рассуждения или примеров их роль в изучении данного социального явления.

ОТВЕТ:

Психология. Так как конфликты часто связаны с психологией людей и ее знание может помочь понять причины конфликта и способы его предотвращения.

Юриспруденция, например, в трудовом конфликте. В основе трудового конфликта может лежать несоблюдение работодателем условий трудового договора, знание трудового права поможет разрешить этот конфликт.

Социология (если ее не называли в ответе к вопросу 2.)

Могут быть приведены другие обоснования.

По 3 балла за каждое верное обоснование. Всего 6 баллов.

Всего за задание 2 - 19 баллов.

Задание 3.

В городах формируется особый микроклимат. Жилая застройка снижает скорость ветра, а застой воздуха способствует концентрации высокотоксичных промышленных загрязнителей. Смог — смесь дыма, пыли и тумана — сокращает количество солнечного света и вызывает серьезные заболевания людей. Температура воздуха в городах всегда несколько превышает среднюю температуру данного района. Нагревание городской атмосферы происходит из-за сгорания автомобильного топлива, отопления зданий и их последующего охлаждения, от отдачи радиационного тепла всеми городскими объектами.

1. О проявлении какой глобальной проблеме идет речь в данном тексте? Назовите ее.

2. Почему именно в XX-XXI веке рост городов привел к возникновению этой проблемы? Приведите объяснение.

3. Приведите пример решения данной проблемы. Приведите один аргумент «за» и один – «против» такого решения.

Ответ

1. ПРОБЛЕМА: экологическая 2 балла

2. Именно с начала XX века наблюдается скачкообразный рост городов и рост числа городов, вслед за ростом промышленного производства. В начале 20 века по статистике сельское население составляло 82%, городское - 18. В настоящее время - сельское население 36% (городское - 64%). С ростом интенсивности промышленного производства, числа промышленных предприятий растет и уровень загрязнения атмосферы. 3 балла

3. Решение проблемы: вынести промышленные предприятия за черту города.

Аргумент «ЗА» - Экологическая ситуация внутри городской черты различается в зависимости от интенсивности движения транспорта, размещения промышленных предприятий. Если «разредить» плотность размещения промышленных предприятий, то это позволит избавиться от сконцентрированных в одном месте вредных выбросов.

Аргумент «ПРОТИВ» - Разрастание собственно городской территории и пригородных коттеджных поселков ведет к сокращению ценных сельскохозяйственных угодий, лесов.

1 балл за предложенное решение.

По 3 балла за каждый приведенный аргумент. Всего 7 баллов.

Могут приведены другие решения и объяснения.

Всего за задание 3 - 12 баллов.

Максимум за часть Б 46 баллов