





МОСКОВСКАЯ ОЛИМПИАДА ПО КОМПЛЕКСНОЙ БЕЗОПАСНОСТИ (КАДЕТСКАЯ ОЛИМПИАДА)


2018-2019 учебный год

Задания дистанционного отборочного этапа

Определите один правильный ответ. За правильный ответ начисляется 1 балл.	
1.	Дальность прямого выстрела по грудной фигуре из АК-74 составляет а) 1000 м б) 440 м в) 625 м г) 1350 м
2.	Укажите метод специфической профилактики инфекционных заболеваний. а) закаливание б) приём витаминов в) занятия физической культурой г) применение профилактических прививок
3.	Если по шкале Бофорта средняя скорость ветра 17,2 – 20,7 м/с, то это а) очень крепкий ветер (буря) б) сильная буря (шторм) в) полная буря (сильный шторм) г) крепкий ветер
4.	При обнаружении гранаты РГД-5 необходимо удалиться от неё на расстояние не менее а) 20 м б) 60 м в) 70 м г) 30 м д) 50 м
5.	Какое смысловое значение имеет изображённая пиктограмма? а) Находиться на путях вблизи движущегося поезда запрещено! б) Ходить по ж/д путям запрещено! в) Прыгать с платформы запрещено! г) Нерегулируемый проход через пути запрещен!
6.	Как подаётся сигнал SOS с помощью фонарика? а) три коротких световых сигнала, три длинных и снова три коротких б) два коротких световых сигнала, два длинных и снова два коротких в) четыре коротких световых сигнала, четыре длинных и снова четыре коротких г) три коротких световых сигнала, два длинных и снова три коротких
7.	От негативного воздействия свободных радикалов организм защищают а) окислители б) оксиданты в) пестициды г) антиоксиданты




8.	<p>Какой след принадлежит медведю?</p> <p>а) </p> <p>б) </p> <p>в) </p> <p>г) </p>
9.	<p>Сколько дыхательных клапанов имеет респиратор Р-2?</p> <p>а) 4 б) 3 в) 2 г) 1</p>
10.	<p>Если провалился под лёд, то выбираться надо</p> <p>а) в левую сторону от направления движения б) в ту сторону, откуда пришли в) в правую сторону от направления движения г) вперёд по направлению движения</p>
11.	<p>Сколько различают зон действия взрыва?</p> <p>а) 5 б) 2 в) 3 г) 4</p>
12.	<p>При наличии подтверждённой информации о реальной возможности совершения террористического акта устанавливается</p> <p>а) жёлтый уровень террористической опасности б) красный уровень террористической опасности в) синий уровень террористической опасности г) оранжевый уровень террористической опасности</p>
13.	<p>При каком ранении применяется герметизирующая (окклюзионная) повязка при оказании первой помощи?</p> <p>а) ранение живота б) ранение грудной клетки в) ранение таза г) ранение конечности</p>
14.	<p>Средняя годовая эффективная доза ионизирующего излучения для человека равна</p> <p>а) 0,025 Зв б) 0,005 Зв в) 0,001 Зв г) 0,007 Зв</p>

15.	<p>При каком повреждении и (или) состоянии пострадавшего применяется изображённое на картинке транспортное положение?</p> <p>а) отсутствие сознания, травма головы слева б) отсутствие сознания, травма груди слева в) отсутствие сознания, массивная кровопотеря г) отсутствие сознания, травма груди справа</p>	
16.	<p>Кадетские корпуса в России ведут свой временной отсчёт с</p> <p>а) 1731 г. б) 1701 г. в) 1689 г. г) 1698 г.</p>	
17.	<p>Днём Конституции Российской Федерации является</p> <p>а) 5 декабря б) 1 декабря в) 9 декабря г) 12 декабря</p>	
18.	<p>Какие мероприятия по восстановлению проходимости дыхательных путей применяются при оказании первой помощи?</p> <p>а) опускание нижней челюсти б) поворот головы с опусканием нижней челюсти в) поворот головы набок г) запрокидывание головы</p>	
19.	<p>Сколько видов формы одежды в настоящее время существует у военнослужащих ВС РФ?</p> <p>а) 2 б) 3 в) 4 г) 5</p>	
20.	<p>Какое смысловое значение имеет изображённый дорожный знак?</p> <p>а) выезд на дорогу с полосой для велосипедов б) велосипедная дорожка в) пешеходная и велопешеходная дорожка с разделённым движением г) дорога с полосой для велосипедов</p>	

Определите все правильные ответы.

За каждый правильный ответ начисляется 1 балл.

21.	Какие признаки являются общими для ушибов, растяжений, переломов и вывихов? а) укорочение конечности б) отёк в месте повреждения в) деформация конечности г) кровоизлияние в месте повреждения д) патологическая (неестественная) подвижность в месте повреждения
22.	Какое значение имеет жёлтый мигающий сигнал светофора? а) запрещает движение б) разрешает движение и информирует, что время его действия истекает и вскоре будет включён запрещающий сигнал в) предупреждает об опасности г) запрещает движение, кроме случаев, предусмотренных пунктом 6.14 ПДД, и предупреждает о предстоящей смене сигналов д) разрешает движение и информирует о наличии нерегулируемого перекрёстка или пешеходного перехода
23.	Какие ручные осколочные гранаты представлены на изображениях? а) РГО б) РГН в) Ф-1 г) РГД-5 д) РГД-33
24.	Где должен двигаться пешеход при наличии всех элементов дороги? а) по тротуару б) по обочине в) по велопешеходной дорожке г) по краю проезжей части д) по велосипедной дорожке
25.	В каких продуктах содержание витаминов А, Е, С больше, чем в других? а) морковь б) помидор в) петрушка обыкновенная г) картофель д) свёкла обыкновенная
26.	Определите, что относится к опасным геологическим явлениям? а) землетрясения б) извержения вулканов в) обвалы г) магнитные бури д) оползни
27.	Какие продукты составляют основу пирамиды здорового питания? а) овощи и фрукты б) молочные продукты в) каши, хлеб из муки грубого помола г) рыба, мясо д) макароны из цельнозерновой муки



28.	<p>Какие зоны радиоактивного загрязнения местности относят к зонам внутреннего облучения?</p> <p>а) А (умеренного) б) Д (чрезвычайно опасного) в) Б (сильного) г) Г (чрезвычайно опасного) д) Д' (опасного)</p>
29.	<p>По типам лесные пожары, сходные по объекту горения и характеру их распространения, подразделяются на</p> <p>а) верховые б) околосемные в) торфяные г) круговые д) покровные</p>
30.	<p>Снятый головной убор военнослужащим держится</p> <p>а) в левой опущенной руке б) в правой опущенной руке в) кокардой вперед г) кокардой назад д) на предплечье левой согнутой руки</p>
31.	<p>Что из перечисленного является видом войск ВС РФ?</p> <p>а) Мотострелковые войска б) Сухопутные войска в) Ракетные войска стратегического назначения г) Войска ПВО-ПРО д) Воздушно-космические силы</p>
32.	<p>Какие даты являются Днями воинской славы России?</p> <p>а) 7 ноября б) 24 декабря в) 25 января г) 2 сентября д) 12 декабря</p>
33.	<p>Какое количество и каких нашивок размещается на погоне старшины?</p> <p>а) 1 б) узкая-(х) в) 2 г) широкая-(х) д) 3</p>

34. На каких изображениях выбор места наблюдения является правильным?

а)



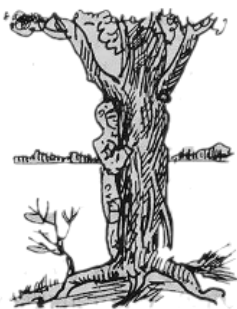
б)



в)



г)



д)



35. По команде «ВОЛЬНО» разрешается

- а) ослабить левую или правую ногу
- б) поправить обмундирование
- в) разговаривать
- г) сходить с места
- д) стать свободно