

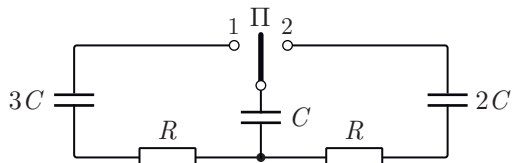


Условия задач, ответы и критерии оценивания

1. Конденсаторы (7 баллов),

Крюков П. А.

В цепи, схема которой изображена на рисунке, в начальный момент времени конденсатор ёмкостью $3C = 300$ мкФ заряжен до напряжения $U_0 = 12$ В, конденсаторы ёмкостью C и $2C$ не заряжены. Переключатель Π в среднем положении.



Переключатель Π сначала перекидывают в положение 1 на короткое время (много меньше RC), а затем в положение 2 на гораздо большее время. Определите заряды конденсаторов после многократного повторения этих двух операций. Найдите приближённо, какое количество теплоты выделяется в каждом из резисторов.

Ответ: $q_3 = \frac{3CU_0}{2} = 5,4$ мКл, $q = \frac{CU_0}{2} = 1,8$ мКл,
 $q_2 = CU_0 = 3,6$ мКл, $Q_1 \approx \frac{3CU_0^2}{4} \approx 6,5 \cdot 10^{-2}$ Дж,
 $Q_2 \approx 0$.

Критерии

- 1) Получена формула $q_3 = \frac{3CU_0}{2}$ для заряда конденсатора ёмкостью $3C$, — 0,5 балла, найдено числовое значение заряда $q_3 = 5,4$ мКл, — 0,5 балла.
- 2) Получена формула $q_2 = CU_0$ для заряда конденсатора ёмкостью $2C$, — 0,5 балла, найдено числовое значение заряда $q_2 = 3,6$ мКл, — 0,5 балла.
- 3) Получена формула $q = \frac{CU_0}{2}$ для заряда конденсатора ёмкостью C , — 0,5 балла, найдено числовое значение заряда $q_3 = 1,8$ мКл, — 0,5 балла.
- 4) Получена формула $Q = \frac{3CU_0^2}{4}$ для суммарной энергии, выделяющейся на обоих резисторах, — 0,5 балла.
- 5) Получены формулы: $Q_1 \approx Q$ и $Q_2 \approx 0$ для энергии, выделяющейся на каждом из резисторов, — 1 балл. Найдено числовое значение $Q_1 \approx 6,5 \cdot 10^{-2}$ Дж, — 0,5 балла.
- 6) На основании оценок, как в решении, или любым другим непротиворечивым и доказательным образом объясняется тот факт, что на правом ре-

зисторе выделяется пренебрежимо малое количество теплоты по сравнению с теплотой, выделяющейся на левом резисторе, — 2 балла.

2. Сосуд во льдах (8 баллов),

Крюков П. А.

Герметичный металлический сосуд заполняют смесью воздуха и водяного пара и начинают охлаждать, поместив в термостат с тающим льдом. В процессе охлаждения измеряют температуру в сосуде с погрешностью $\Delta T = 0,5^\circ\text{C}$ и давление — с погрешностью $\Delta p = 0,05 \cdot 10^5$ Па. В результате получают таблицу.

$t, ^\circ\text{C}$	137	123	109	82	55	27	0
$p, 10^5$ Па	1,5	1,45	1,4	1,3	0,8	0,7	0,6

Определите отношение количества воды к количеству воздуха в сосуде, а также плотность газовой фазы в начале и в конце процесса. Учтите, что давление насыщенных паров воды, равное 1 кПа, достигается при температуре около 7°C . Молярные массы воды и воздуха равны соответственно 18 г/моль и 29 г/моль.

Ответ: $\frac{\nu_{\text{возд.}}}{\nu_{\text{вод.}}} = \frac{3}{2}$, $\rho_{\text{н}} = 1,1 \frac{\text{кг}}{\text{м}^3}$, $\rho_{\text{к}} = 0,77 \frac{\text{кг}}{\text{м}^3}$.

Критерии

- 1) Доказательно объясняется, что в начале процесса пар насыщенный; делается анализ данных таблицы или строится график зависимости давления от температуры — 1 балл.
- 2) Дается непротиворечивое и доказательное объяснение того факта, что давлением паров в сосуде в конце опыта можно пренебречь — 1 балл.
- 3) Получена формула для отношения количеств вещества $\frac{\nu_{\text{возд.}}}{\nu_{\text{вод.}}} = \frac{p_{\text{возд.}}}{p_{\text{вод.}}}$ — 1 балл.
- 4) Верно найдены парциальные давления воздуха и водяных паров в начале процесса: $p_{\text{возд.}} = 0,9$ Атм, $p_{\text{вод.}} = 0,6$ Атм, а также определено числовое значение отношения количеств вещества $\frac{\nu_{\text{возд.}}}{\nu_{\text{вод.}}} = \frac{3}{2}$ — 2 балла.
- 5) Получена формула и найдено верное числовое значение плотности газовой фазы в начале процесса $\rho_{\text{н}} = \frac{p_{\text{возд.}} \mu_{\text{возд.}} + p_{\text{вод.}} \mu_{\text{вод.}}}{RT} = 1,1 \frac{\text{кг}}{\text{м}^3}$ — 1 балл + 0,5 балла.

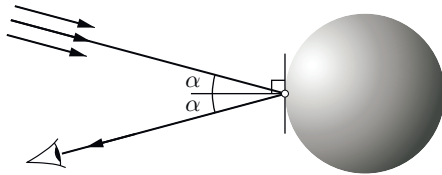
б) Показывается, что плотность газовой фазы в конце процесса равна плотности воздуха, которая не меняется в течение всего процесса. Получена формула и найдено верное числовое значение $\rho_k = \frac{p_{\text{возд.}} \mu_{\text{возд.}}}{RT} = 0,77 \frac{\text{кг}}{\text{м}^3} - 1 \text{ балл} + 0,5 \text{ балла}$.

3. Изображения в шаре (9 баллов)

Бычков А. И., Крюков П. А.

Наблюдатель видит изображение Солнца в полированном металлическом шаре. Угловая высота Солнца над горизонтом равна α и равна углу между линией зрения и горизонтальной нормалью к шару. Определите характерный размер изображения Солнца, если радиус шара равен R , а угловой размер Солнца равен φ ($\varphi \ll \alpha$).

Примечание. Для малого угла φ справедливы приближённые формулы: $\cos \varphi \approx 1$, $\sin \varphi \approx \varphi$.



Ответ: $\Delta L = \frac{R \cos \alpha}{2} \varphi$.

Критерии

1) Изображён схематичный рисунок, поясняющий формирование изображения удалённого источника, которое видит наблюдатель, в случае произвольного (не малого) угла α — 2 балла.

2) Найдены правильные геометрические соотношения (между углами или длинами), которые необходимы для анализа задачи — 1 балл.

3) Найдено расстояние от точки падения луча, показанного на рисунке к задаче, до изображения Солнца, которое видит наблюдатель при произвольных углах α — 3 балла.

4) Упомянуто (или изображено), что угол падения пучков параллельных лучей от Солнца изменяется в пределах от α до $\alpha + \varphi$ — 2 балла.

5) Найден характерный размер изображения Солнца $\Delta L = \frac{R \cos \alpha}{2} \varphi$ — 1 балл.

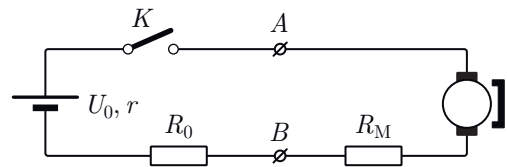
Примечание. Если правильно найден характерный размер Солнца в случае малых углов α , получена формула $\Delta L = \frac{R \varphi}{2}$, за решение задачи ставится 3 балла.

4. Модели стартера (12 баллов)

Варламов С. Д., Крюков П. А.

На рисунке изображена простейшая модельная схема подключения электродвигателя (автомобильного стартера) к аккумулятору.

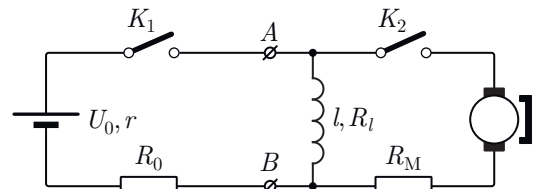
бильного стартера) к аккумулятору.



Параметр схемы $R_M = 2 \cdot 10^{-2}$ Ом моделирует сопротивление обмоток якоря двигателя, r и R_0 — внутреннее сопротивление аккумулятора с ЭДС $U_0 = 12$ В и сопротивление проводов, при этом $R_0 + r = 10^{-2}$ Ом. Можно считать, что ЭДС индукции, вырабатываемая электродвигателем, пропорциональна угловой скорости вращения вала $|\mathcal{E}_i| = k\omega$, а момент сил, действующих на вал со стороны магнитного поля, пропорционален току $M = kI$. Для упрощения расчётов далее полагаем, что вал электродвигателя не нагружен.

1) Найдите напряжение U_{AB} на клеммах электродвигателя (между т. А и т. В) сразу после замыкания ключа, а также максимальное значение силы тока в цепи. Чему равен ток в момент, когда угловая скорость вращения вала составляет 75% от максимального значения? (3 балла)

Другая модельная схема (рис. ниже) учитывает наличие в конструкции удерживающей обмотки тягивающего реле, R_l — сопротивление катушки индуктивностью l . При включении сначала замыкается ключ K_1 , а когда ток через катушку установится, замыкается ключ K_2 .

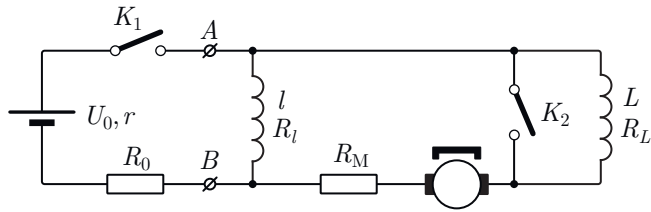


2) Считая, что отношение $\alpha = \frac{R_l}{r + R_0}$ известно ($\alpha > 1$), определите максимальное значение тока через двигатель в этом случае. (4 балла)

3) При выключении электродвигателя (после того, как скорость вращения вала установится) сначала размыкают ключ K_1 . При этом напряжение на клеммах двигателя почти мгновенно увеличивается на $\Delta U_{AB} = 2$ В. Определите по этим данным параметр α . (3 балла)

Наиболее близка к реальному устройству схема, изображенная на третьем рисунке. Ключи изначально разомкнуты. Поворот ключа зажигания соответствует замыканию ключа K_1 . Когда ток через катушку L достигает некоторого порогового значения $I_{\text{п}}$ замыкается ключ K_2 (магнитное поле катушки тягивает шток, замыкающий контакты

ключа K_2).



4) Индуктивность второй катушки L и её сопротивление R_L таковы, что выполняются равенства: $L = 10l$, $R_L = 5R_L$. Известно, что значение тока I_{Π} лежит между 10 А и 20 А. Чему равен ток через катушку индуктивностью l в момент замыкания ключа K_2 ? Численное значение параметра α считайте известным из п. 3). (2 балла)

Критерии

Общее пожелание: при проверке данной задачи не учитывать error propagation — распространение ошибки при вычислении некоторых начальных величин на итоговый результат.

1) Получена формула для напряжения $U_{AB}(0)$ и верно найдено числовое значение

$$U_{AB}(0) = \frac{U_0 R_M}{r + R_0 + R_M} = 8 \text{ В} - 1 \text{ балл.}$$

Указано, что наибольший ток протекает в цепи в момент замыкания ключа, получена формула и верное числовое значение

$$I_{\max} = \frac{U_0}{r + R_0 + R_M} = 400 \text{ А} - 1 \text{ балл.}$$

Указано, что в момент, когда скорость вала составляет 75% от максимального значения, ЭДС индукции равна 75% от своего максимального значения и равна 9 В. Найдено верное значение тока в этот момент времени, равное $I = 100 \text{ А} - 1 \text{ балл.}$

2) Получена формула для установившегося тока через катушку

$$I_l = \frac{U_0}{r + R_0} \cdot \frac{1}{1 + \alpha} - 1 \text{ балл.}$$

Указано, что максимальный ток достигается сразу после замыкания ключа, при этом ток через катушку не успевает измениться, записано уравнение обхода контура с одной неизвестной (как в решении или аналогичное) — 2 балла.

Получена формула для максимального тока через мотор

$$I_M = \frac{U_0}{r + R_0 + R_M} \cdot \frac{\alpha}{1 + \alpha} - 1 \text{ балл.}$$

3) Указано, что в установившемся режиме ток через двигатель равен нулю, через катушку течёт

ток I_l , при этом сразу после размыкания ключа K_1 ток I_l потечёт через электродвигатель — 1 балл.

Получено уравнение для нахождения α

$$\Delta U_{AB} = U_0 \frac{R_M}{r + R_0} \cdot \frac{1}{1 + \alpha} - 1,5 \text{ балла.}$$

Верно найдено числовое значение $\alpha = 11 - 0,5$ балла.

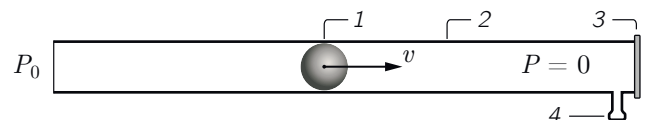
4) Показано, что время установления тока через катушку индуктивностью L не менее, чем в 30 раз больше, чем время установления тока через катушку с индуктивностью l , — 1 балл.

Сделан вывод о том, что через катушку с индуктивностью l течёт ток, равный току в установившемся режиме, получено верное значение этого тока, равное $I_l^{(2)} = 100 \text{ А}$, — 1 балл.

5. Вакуумная пушка (12 баллов),

Крюков П. А.

В последние годы большой интерес у энтузиастов, занимающихся научно-техническим творчеством, вызывает устройство под названием «вакуумная пушка». В полипропиленовой водопроводной трубе 2 (см. рисунок ниже), один конец которой герметично закрыт заглушкой из фольги 3, а другой открыт в атмосферу, разностью давлений ускоряется шарик 1 для игры в пинг-понг. Внутренний диаметр трубы близок к диаметру шарика. Рядом с заглушкой располагается штуцер 4, через который труба соединяется с вакуумным насосом. Таким образом, справа от шарика давление очень низкое, а у открытого конца трубки — давление, близкое к атмосферному, которое равно P_0 .

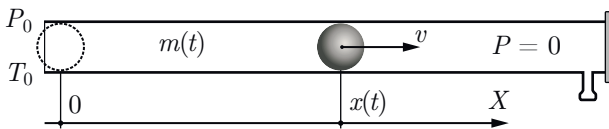


Оказывается, что при достаточно большой длине трубки и качественной откачке, шарик можно разогнать до высокой скорости, так что он легко разорвёт фольгу заглушки и вылетит из трубки. В одном видеоролике, доступном в сети, демонстрируется, как вылетающий из трубки шарик пробивает пустые банки из-под газировки, поставленные на небольшом расстоянии от трубки.

1) В самой грубой модели предполагается, что слева от шарика давление равно $P_0 = 10^5 \text{ Па}$, а справа — равно нулю. Разность давлений не меняется в процессе разгона шарика. Трения между шариком и стенками трубы нет. До какой максимальной скорости $v_{\max}^{(1)}$ может быть разогнан шарик массой $M = 2,7 \text{ г}$ и диаметром $d = 40 \text{ мм}$ в

трубе длиной $L = 2$ м? (1 балл)

В более точной модели считается, что под действием постоянной разности давлений ускоряется не только шарик, но и воздух массой $m(t)$, располагающийся в момент t в трубе слева от шарика, а также вовлекаются в движение новые порции воздуха из атмосферы. Предлагается считать, что область вблизи левого торца трубы, в которой воздух вовлекается в движение, имеет малый характерный размер, сопоставимый с диаметром трубы. Снаружи трубы вне этой области воздух остаётся неподвижным. Внутри трубы воздух движется со скоростью шарика, а его плотность равна плотности воздуха ρ снаружи. Диаметр шарика много меньше длины трубы. В начальный момент времени координата x шарика и его скорость равны нулю.



2) Определите более точное значение скорости $v_{\max}^{(2)}$, до которой может быть разогнан шарик тех же размеров, что и в п. 1) задачи, в трубе той же длины. Время разгона в первом приближении можно считать равным времени разгона в п. 1). Температура воздуха и его молярная масса равны: $T_0 = 293$ К, $\mu = 29$ г/моль соответственно. (3 балла)

3) Считая известными только температуру $T_0 = 293$ К снаружи трубы и молярную массу воздуха $\mu = 29$ г/моль, определите максимальную скорость, до которой может быть разогнан шарик. Длина трубы предполагается достаточно большой. (3 балла)

4) Даны параметры: M, S, P_0, ρ, μ . Получите формулу зависимости координаты шарика от времени $x(t)$. (5 баллов)

Примечание. Может оказаться полезной формула $\Delta(x^2) = 2x\Delta x$, справедливая для малых изменений ($\Delta x \ll x$) величины x .

Интересно, что группа из американского университета Пёрдью, немного усложнив конструкцию, сумела разогнать шарик до сверхзвуковой скорости ($v \approx 420$ м/с, в $M = 1,23$ раза больше скорости звука), так что по-

сле вылета из трубки шарик для настольного тенниса пробил ракетку для настольного тенниса. Видео можно найти в сети по фразе: «Purdue Technology students build supersonic ping pong gun». В усовершенствованной конструкции на левом конце трубки имеется баллон со сжатым воздухом и сопло Лавала, через которое воздух поступает в «ствол пушки».

Критерии

Общее пожелание: при проверке данной задачи не учитывать error propagation — распространение ошибки при вычислении некоторых начальных величин на итоговый результат.

1) Получено верное значение скорости $v_{\max}^{(1)} \approx 430$ м/с, — 1 балл.

2) Записан второй закон Ньютона в «импульсном» виде $P_0 S \Delta t = (m(t) + M) \Delta v + v(t) \Delta m$ или аналогичная формула, — 1 балл.

Показано, что полученное уравнение можно просуммировать (проинтегрировать), получена формула

$$v(t_0) = \frac{P_0 S t_0}{m(t_0) + M}, \quad - 1,5 \text{ балла.}$$

Получено верное значение максимальной скорости, равное $v_{\max}^{(2)} \approx 199$ м/с, — 0,5 балла.

3) Указано, что в момент, когда шарик достигает максимальной скорости, действие сил давления за малое время сводится к вовлечению в движение с максимальной скоростью небольшой массы воздуха — 0,5 балла.

Получено соотношение $P_0 S \Delta t = u \Delta m$ или аналогичное — 1 балл.

Получена формула для определения максимальной возможной скорости $P_0 = \rho u^2$ — 1 балл.

Найдено числовое значение скорости, равное $u \approx 294$ м/с — 0,5 балла.

4) Получено уравнение $P_0 S t = M v + \rho S x v$ или аналогичное — 1 балл.

Уравнение домножено на Δt и просуммировано (проинтегрировано), получено уравнение $P_0 S t^2 = 2 M x + \rho S x^2$ или аналогичное — 3 балла.

Решено квадратное уравнение и получена искомая формула

$$x(t) = -\frac{M}{\rho S} + \sqrt{\left(\frac{M}{\rho S}\right)^2 + \frac{P_0 t^2}{\rho}}, \quad - 1 \text{ балл.}$$