

**Задания отборочного этапа Московской олимпиады школьников по географии
2020-2021 учебного года для 8 кл. (1 вариант)**

Задание №1

Какой (какие) из результатов нельзя получить с помощью топографической карты?

- 1) оценить возраст леса;
- 2) оценить проходимость болота для военной техники;
- 3) оценить пригодность территории для строительства гольф-клуба;
- 4) построить поперечный профиль долины ручья;
- 5) определить строение оползневого тела.

Задание №2

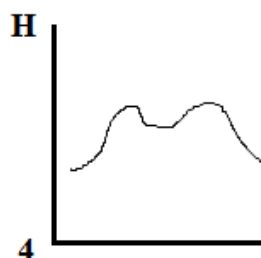
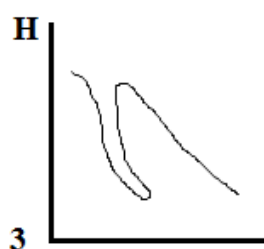
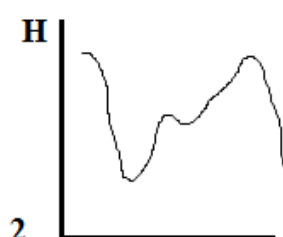
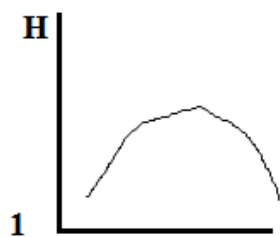
Сделав правильный выбор в каждой паре объектов, понятий или имен, составьте цепочку, чтобы «пропутешествовать» от полуострова Эйр до одного из островов, указанных в пункте 7.

Свой ответ запишите в следующей форме: 1 – ..._2 – ..._3 – ..._4 – ..._5 – ..._6 – ..._7 – ...

1. Австралия или Новая Зеландия?
2. Джеймс Росс или Джеймс Кук?
3. Мальдивские острова или Гавайские острова?
4. вулканические острова или материковые острова?
5. гора Рейнир или гора Белуха?
6. Африка или Америка?
7. Мадагаскар или Гренландия?

Задание №3

На каком из рисунков представлен поперечный профиль срединно-океанического хребта?

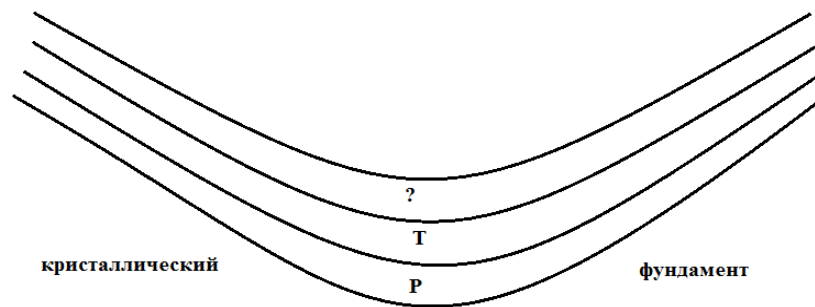


Задание №4

Один из известнейших путешественников XVIII века, проживший около пятидесяти лет, открывший ранее неизвестные европейцам территории в Океании трагически погиб, будучи убитым местными туземцами. На территории какого государства в современных границах произошло это трагическое событие?

Задание №5

Какая из геологических структур схематически показана на представленном рисунке? Какой возраст должен иметь верхний слой, учитывая, что залегание пород в данном геологическом теле согласное. Укажите название искомой структуры и недостающий индекс геологического периода по следующему образцу: платформа_N.



Задание №6

На космических снимках запечатлены известные озёра, представляющие разные материки. Какое из представленных озёр отличается самым высоким урезом воды? В качестве ответа укажите буквенный индекс и название озера. Ответ запишите по образцу: Г_Маракайбо.

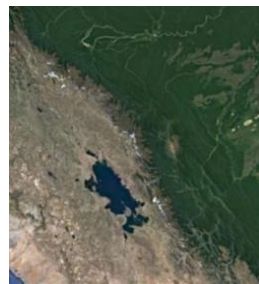
А



Б



В



Г



Задание №7

В один из дней декабря в столице Эфиопии городе Аддис-Абеба, расположенном на высоте 2400 м, температура воздуха была 20,5°C, в недалеко расположенном городе Дыре-Дауа в это же время она составила 27,25°C. Определите, на какой абсолютной высоте располагается город Дыре-Дауа. Ответ запишите только в форме числового значения, например: 1550.

Задание №8

Данным именем (имя собственное) названо не только самое крупное озеро одного из материков, но и судно, вернувшееся из кругосветного плавания. Определите одноименный объект в южном полушарии, имеющий площадь около 400 тыс. км². Что это за объект? Укажите его название полностью, без каких-либо сокращений, например: Ниагарский водопад.

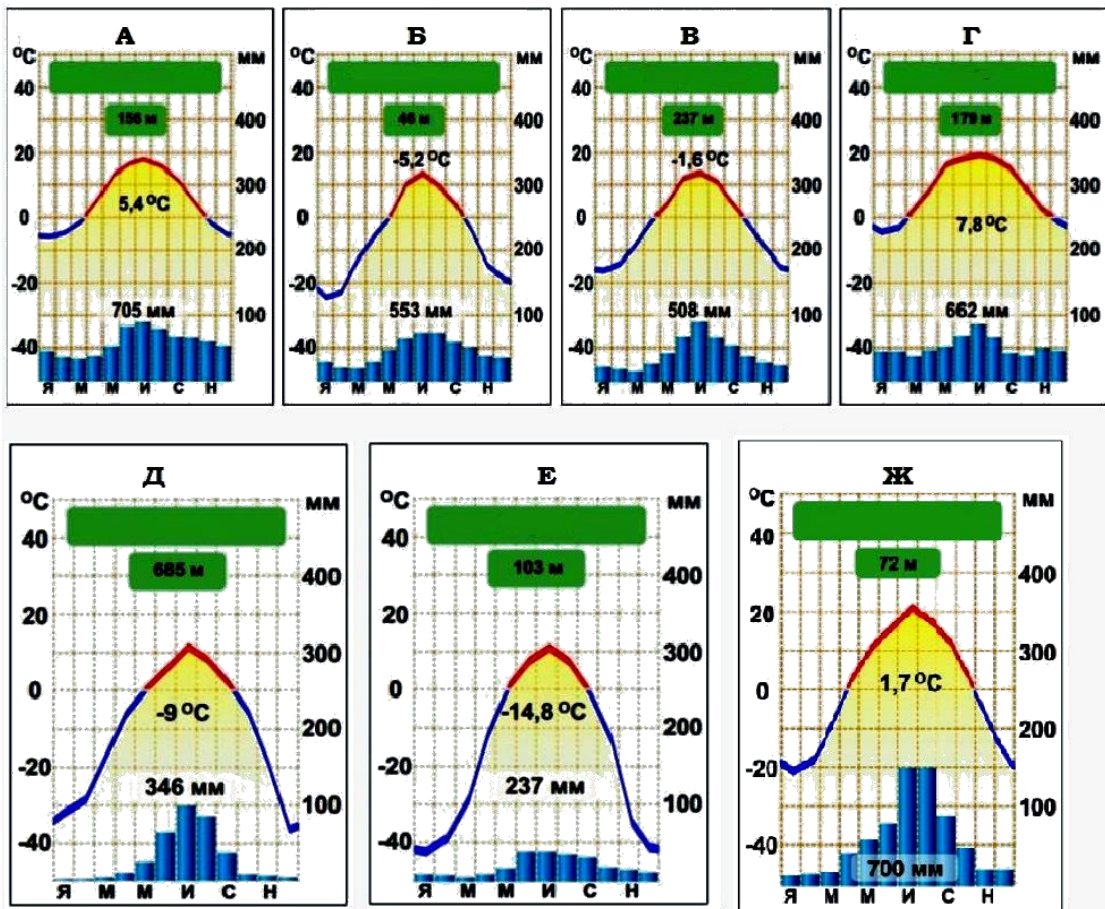
Задание №9

Группа школьников прошла от точки старта 2 км на юг, затем 1 км на запад, 1 км на север, еще 1 км на запад и 1 км на юг и пришла на финиш. Укажите значение азимута направления старт – финиш с использованием только цифровых индексов, например: 95.

Задание №10

Установите соответствие между представленными на рисунке климатограммами и перечисленными городами (1 – Екатеринбург, 2 – Киев, 3 – Москва, 4 – Хабаровск, 5 – Ханты-Мансийск, 6 – Чита, 7 – Якутск), климат которых они характеризуют.

Свой ответ оформите по следующему образцу: 1-А_2-Б_3-В_4-Г_5-Д_6-Е_7-Ж



**Задания отборочного этапа Московской олимпиады школьников по географии
2020-2021 учебного года для 8 кл. (2 вариант)**

Задание №1

Какой (какие) из результатов нельзя получить с помощью топографической карты?

- 1) оценить плотность древостоя в лесу;
- 2) оценить проходимость болота для человека;
- 3) оценить пригодность территории для сооружения артезианской скважины;
- 4) построить поперечный профиль оврага;
- 5) рассчитать время катера в пути от одной пристани до другой.

Задание №2

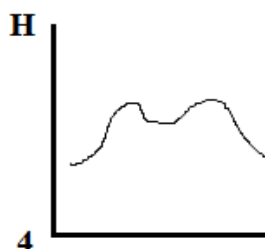
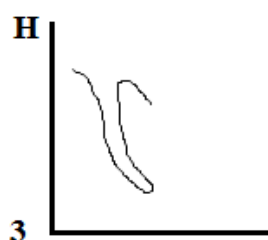
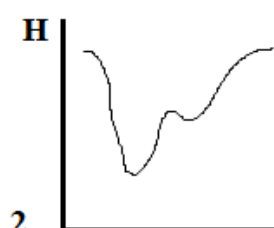
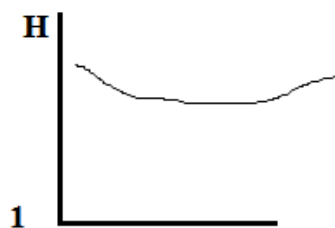
Сделав правильный выбор в каждой паре объектов, понятий или имен, составьте цепочку, чтобы «пропутешествовать» от острова Девон до одного из островов, указанных в пункте 7.

Свой ответ запишите в следующей форме: 1 – ..._2 – ..._3 – ..._4 – ..._5 – ..._6 – ..._7 – ...

1. Канада или Великобритания?
2. озеро Виктория или озеро Атабаска?
3. зона смешанных лесов или зона тайги?
4. Галичья гора или Лосиный остров?
5. национальный парк или памятник природы?
6. остров Гренландия или Галапагосские острова?
7. остров Сахалин или остров Комсомолец?

Задание №3

На каком из рисунков представлен поперечный профиль аласа?



Задание №4

Один из известнейших путешественников XVI века, проживший около сорока лет, открывший ранее неизвестные европейцам территории в Океании, Азии и других регионах мира трагически погиб, будучи убитым местными туземцами. На территории какого государства в современных границах произошло это трагическое событие?

Задание №5

Какая из геологических структур схематически показана на представленном рисунке? Какой возраст должен иметь верхний слой, учитывая, что залегание пород в данном геологическом теле согласное. Укажите название искомой структуры и недостающий индекс геологического периода по следующему образцу: платформа_N.



Задание №6

На космических снимках запечатлены известные озёра, представляющие разные материки. Какое из представленных озёр отличается самым высоким урезом воды? В качестве ответа укажите буквенный индекс и название озера. Ответ запишите по образцу: Г_Маракайбо

А



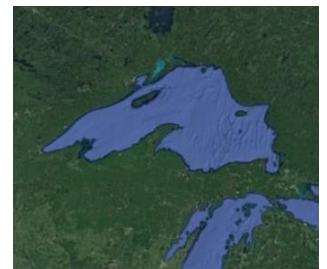
Б



В



Г



Задание №7

В один из дней декабря в столице Эфиопии городе Аддис-Абеба, расположенном на высоте 2400 м, температура воздуха была 21,5°C, в недалеко расположенном городе Назрет в это же время она составила 25,55°C. Определите, на какой абсолютной высоте располагается город Назрет? Ответ запишите только в форме числового значения, например: 1550.

Задание №8

Данным именем (имя собственное) названо немало географических объектов. Среди них – остров в Канадском арктическом архипелаге и самое крупное озеро одного из материков. Определите один из таких объектов, если известно, что в ширину он простирается на более чем 1 км и обладает охранным статусом, поскольку включён в список природного наследия ЮНЕСКО. Что это за объект? Укажите его название полностью, без каких-либо сокращений, например: пустыня Атакама.

Задание №9

Группа школьников прошла от точки старта 1 км на север, затем 1 км на восток, 1 км на юг, еще 1 км на восток, а затем 2 км на север и пришла на финиш. Укажите значение азимута направления старт – финиш с использованием только цифровых индексов, например: 125.

Задание №10

Установите соответствие между представленными на рисунке диаграммами и перечисленными городами (1 – Екатеринбург, 2 – Киев, 3 – Москва, 4 – Хабаровск, 5 – Ханты-Мансийск, 6 – Чита, 7 – Якутск), климат которых они характеризуют.

Свой ответ оформите по следующему образцу: 1-А_2-Б_3-В_4-Г_5-Д_6-Е_7-Ж

