


МОСКОВСКАЯ ОЛИМПИАДА ШКОЛЬНИКОВ  
ИСТОРИЯ. 2025–2026 уч. г.  
ДИСТАНЦИОННЫЙ ЭТАП. 9 КЛАСС

**Задание 1.** Изучите представленное изображение и выберите из предложенных ниже суждений верные.



1. Иллюстрация посвящена событиям, произошедшим до рождения третьего сына монарха, который в это время правил.
2. На иллюстрации изображено событие, которое произошло в летнее время.
3. На изображении можно обнаружить монограмму монарха, правившего в период событий, которым посвящена иллюстрация.
4. При изображении исторических деятелей художником представлен такой элемент одежды, как шапка-гренадёрка.
5. На иллюстрации изображён такой элемент одежды, как высокие сапоги с цветными отворотами.
6. У одного из мужчин на представленном изображении наблюдается причёска «тупей».
7. На изображении показан памятник, известный по надписи на нём «Прадеду – правнук».
8. Дворец, представленный на изображении, до воцарения монарха, в правление которого произошли показанные события, использовался под нужды кадетского корпуса.

9. Представленный на изображении дворец возведён в архитектурных традициях классицизма.

10. На изображении наблюдается орден, имеющий иностранное происхождение, которым были награждены А.Е. Чарторыйский, М.И. Кутузов, П.А. Пален, но не были награждены А.Д. Меншиков и М.С. Воронцов.

**Ответ: 3 4 7 9 10.**

***Балл за каждый верный выбор – 2, штрафной балл за каждый неверный выбор – 2. При выборе более 8 вариантов ответа – 0 баллов. Максимальный балл за задание – 10.***

**Задание 2.** Изучите предложенные ниже текстовые фрагменты, в которых описываются различные военные кампании с участием российских войск. Выберите из описаний **четыре**, в которых принимал участие один из деятелей, упомянутых в задании 1.

1. Он заслужил Георгия, ему дали генерал-адъютантство, но что все это значит перед восторгами Москвы, перед всею Русскою землею, повторяющей его имя с почтением и радостью... Газеты были полны одним его именем – везде в иллюстрированных изданиях появились его портреты, печатались его краткие биографии. Бедная мать ваша ожила, но постоянно подавляла в себе свои тревоги. Очевидно, что она не могла забыть ни на единый миг эти опасности, среди которых он жил. В английской газете Daily news появились дифирамбы, целая поэма в письмах о переходе через Балканы, о взятии Шибки, о битвах при Казанлыке и Эски-Загре.

2. В последней моей всеподданнейшей я вашему императорскому величеству доносил, что по требованию ко мне от генерала, командующего первою армиею, князя Голицына о защищении воеводства Брацлавского от стремлений, им примеченных на оное татар, я было обратил все мои передовые партии к стороне Польши против сих предприятий, но от 15-го сего месяца он уже требует, чтоб я свои легкие войска употребил не только за Буг, но и за Днестр по причине, что по известию, им полученному, у Рябой Могилы неприятельского конного и пешего войска щисляется не более сорока тысяч человек, а пушек только тридцать больших, да две чрезвычайной величины. А поелику мои партии, к той стороне непрестанно обращаясь, никакого однакож от стоящего неприятеля у Рябой Могилы движения не приметили, то и остается заключить, что сей корпус стоит неподвижно, или в примечании на мои движения или же предопределен в помощь другим своим силам.

3. Эти награды вышли от князя Меншикова, который, по правам главнокомандующего, имеет право награждать в военное время до известных

степеней. Я вовсе не честолюбив, но рад тому, что вы, говоря обо мне, можете всем в глаза сказать, что брат ваш носит эполеты, нисколько их не черня. Я могу сказать, что до сих пор ещё не испытал вполне приятных минут; и самые приятные из них есть те, когда я мог чем-нибудь радовать близких сердцу. Так и теперь, зная, что получение Владимирского креста доставить всем вам удовольствие, я почти счастлив. У нас всё идёт как нельзя лучше; с каждым часом укрепления наши становятся всё грознее и грознее, и неприятелю всё труднее действовать против нас. Командующим войсками назначен генерал-адъютант барон Остен-Сакен, тот самый, который был в Одессе во время бомбардирования её.

4. Особливое усердие, которым долговременная служба ваша была сопровождаема, радение и точность в исполнении предположений главного начальства, неутомимость в трудах, предприимчивость, превосходное искусство и отличное мужество во всяком случае, наипаче же при атаке многочисленных турецких сил, верховным визирем предводимых, в 11-й день сентября на реке Рымнике оказанное, где вы с войсками нашими и с корпусом союзника нашего, его величества императора римского под командою принца Саксен-Кобургского находящимся, совершенную над неприятелем одержали победу, приобретают вам особливое наше монаршее благоволение. В изъяснение оною, мы, на основании установления о военном ордене нашего святого великомученика и победоносца Георгия, пожаловали вас кавалером того ордена большого креста первого класса, которого знаки при сем доставляя, повелеваем вам возложить на себя. Удостоверены мы совершенно, что таковое отличие будет вам поощрением к вящему продолжению ревностной службы вашей, нам благоугодной.

5. Сего же числа предписано генерал-майору Хитрово отправить во 2-й корпус Житомирский драгунский и Нашебургский мушкетёрский полки и понтонную роту, лейб-же кирасирский полк, назначенный было в Кишенев, поворотить в Бендеры. 12-го получено донесение от генерал-лейтенанта Заса, что 9 числа сего месяца российские войска заняли крепость Килию у Дуная. Сего числа командующий предписал генерал-лейтенанту Дюку-де Ришелье, дабы воспользоваться обстоятельствами и благоприятствующею тёплогою погодою к споспешествованию видам и мероположениям командующего находящуюся при Аккермане и Одессе флотилию выслал бы в Дунай, и чтобы сие исполнил генерал-лейтенант Дюк-де Ришелье с возможною быстротою, дабы медлительностью не навесить таких последствий, которые могут сделать великие в предприятиях помешательства.

6. Объявляю вам, что мы вчерашнего дня неприятеля дошли, стоячего зело в крепких местах числом шестнадцать тысяч, которой тотчас нас из лесу атаковал всею пехотою во фланг, и неприятель не все отступал, но и наступал, и виктории

нельзя было во весь день видеть, куды будет; но последи милостию Бога, оного неприятеля сломив, побили на голову так, что трупом с восемь тысяч на месте осталось (кроме, что по лесам от ран померло и Калмыки побили). Обоз весь с две тысячи телег, шестнадцать пушек, сорок два знамя и поле со всем осталось нам, а неприятели достальные по лесам разбежались, за которыми пошли сего дня вслед, а сколько с нашей стороны побито и ранено, о том выправясь ведомость пришьем к вам впредь; а с неприятельской стороны в полон взяты: один полковник, да генерала Левенгопта генерал отъютант и несколько офицеров, а протчим наши салдаты пардону не дали.

7. День 5-го был живее чем 4-го. Более чем 80-тысячная армия атаквала город, не добившись иного успеха, кроме как поджечь предместья самого города и заставить наши войска укрыться в нем. Вся остальная 1-я армия была размещена на правом берегу Днепра, который доминировал над левым, имея возможность по своему усмотрению развивать свои силы и освежать те, которые защищали город, а посему занимать позицию, которая заставила бы всю армию терять людей бесконечно. Таким, по крайней мере, было мнение всей армии, и это подкреплялось, быть может слабо обоснованной, важностью обладания городом для России, которая должна была добиться его сохранения. У военного министра, должно быть, были мотивы, которые я не могу понять, чтобы вопреки советам всех его генералов, вопреки мнению князя и всей его армии, отдать приказ в ночь с 5 на 6 об оставлении города и удерживать правый берег, чтобы затем идти на Дорогобуж.

8. Но бакинцы остались в своем неотменном упорстве, майора в город, не пустили задержав два часа на пристани, и следующим словестным ответом отправили назад: «Жители города верные подданные шахова величества и уже четыре года против бунтовщика Дауда стояли, да и впредь сколько бы оный ни силен зделался они того не опасаются, и для того войска на вспоможение себе ни единого человека и провианта ни единого батмана иметь не желают, что же касается до письма посольскаго, то оно де писано в России и сверх того оне не обязаны следовать совету Измаила Бега ниже принимать от него повеления». По тому ответу приказал Матюшкин в тот час зделать настоящая приготовления к атаке, сперва командированы два полковника: Остафьев и Безобразов с четырьмя баталионами к выходу на берег, а артиллерии майор Гербер получил приказание чтоб держать в готовности два бомбардирских гекбота и еще 5-ть других, на которых были 18-ти фунтовые медные пушки.

**Ответ: 2 4 5 7.**

***Балл за каждый верный выбор – 2, штрафной балл за каждый неверный выбор – 2. При выборе более 6 вариантов ответа – 0 баллов. Максимальный балл за задание – 8.***

**Задание 3.** Распределите предложенные вам описания боевых действий, в которых участвовали российские войска, из задания 2 в хронологическом порядке от наиболее ранних боевых действий (1) к наиболее поздним (8).

**Ответ:**

Номер	1	2	3	4	5	6	7	8
Фрагмент	6	8	2	4	5	7	3	1

*По 1 баллу за каждое верное соотнесение. Максимальный балл за задание – 8.*

**Задание 4.** Изучите представленные ниже изображения различных исторических событий (в том числе легендарного характера) истории России в XVI-XVII веках и подберите для каждого изображения десятилетие, реалии которого оно отражает.


**А.**



**В.**



**Б.**



**Г.**



Московская олимпиада школьников. История. 2025–2026 уч. г.  
 Дистанционный этап. 9 класс

Д.



Ж.



И.



Е.



З.



К.



Варианты для выбора

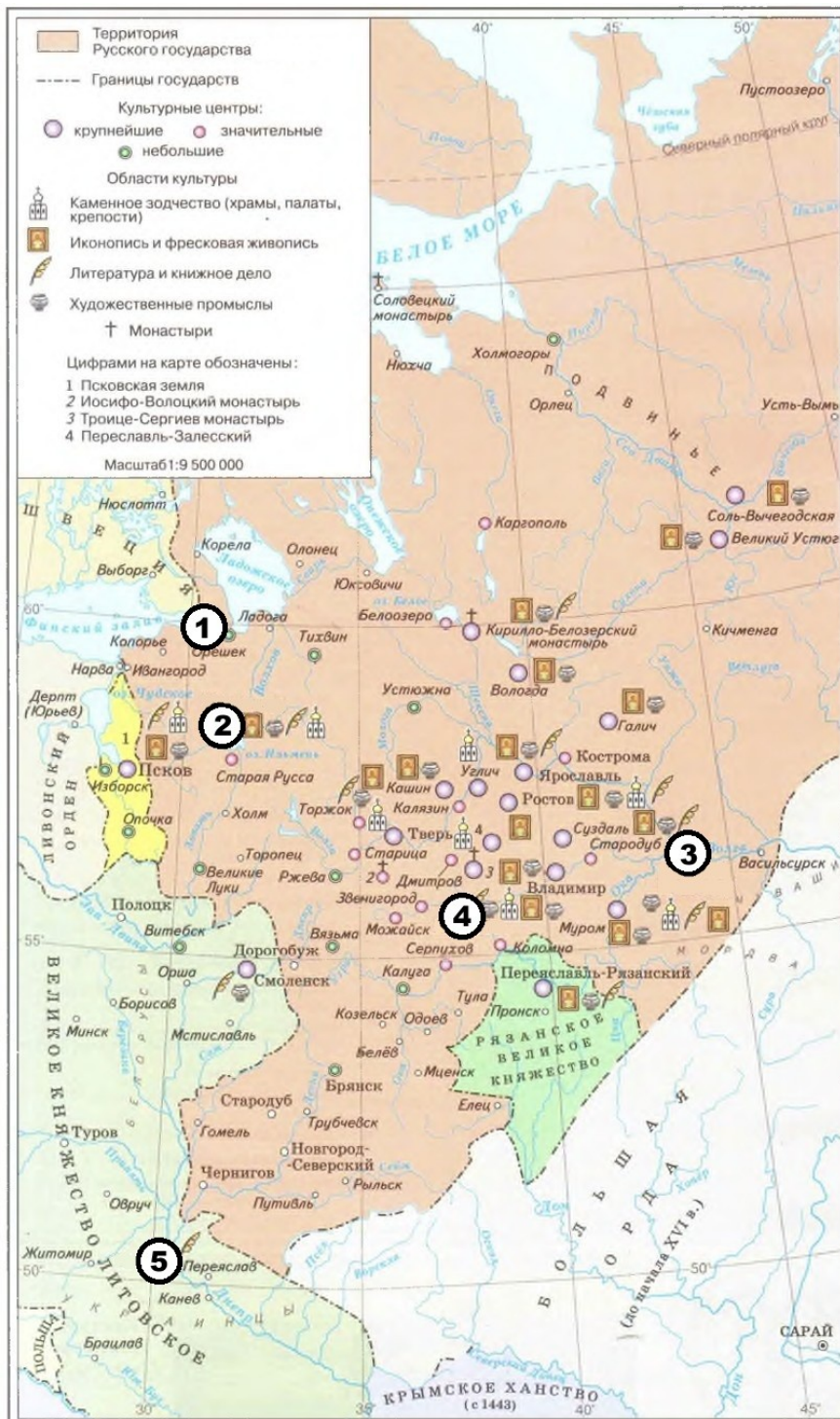
1530-е 1550-е 1570-е 1590-е 1600-е 1610-е 1640-е 1660-е 1690-е 1700-е

Ответ:

А	Б	В	Г	Д	Е	Ж	З	И	К
1550-е	1590-е	1600-е	1530-е	1570-е	1660-е	1700-е	1610-е	1640-е	1690-е

**По 1 баллу за каждое верное соотнесение. Максимальный балл за задание – 10.**

**Задание 5.** Выберите на карте для каждого изображения из задания 4 цифру, обозначающую место, где происходили события, проиллюстрированные на данном изображении. Цифра 4 на карте обозначает и город и его пригороды. Если для изображения нет соответствующей ему цифры, выберите вариант ответа «нет соответствия». Одна цифра может соответствовать сразу нескольким изображениям.



**Ответ:**

<b>А</b>	<b>Б</b>	<b>В</b>	<b>Г</b>	<b>Д</b>	<b>Е</b>	<b>Ж</b>	<b>З</b>	<b>И</b>	<b>К</b>
<b>4</b>	<b>4</b>	<b>4</b>	<b>4</b>	<b>нет</b>	<b>4</b>	<b>1</b>	<b>4</b>	<b>4</b>	<b>4</b>

*По 1 баллу за каждое верное соотнесение. Максимальный балл за задание – 10.*

**Задание 6.** Выберите из предложенных к карте суждений верные.

1. На представленной карте обозначены границы Русского государства на 1512 год.
2. Согласно данным карты, в каждом крупнейшем культурном центре русских земель было развито каменное зодчество.
3. Согласно карте, один из крупных русских монастырей стоял на берегу моря.
4. На карте указано не менее трёх топонимов, по чьим названиям известны наиболее почитаемые средневековые иконы Богоматери.
5. На карте указано название города, возле которого состоялась битва, в ходе которой был взят в плен московский великий князь.
6. Согласно карте, Иосифо-Волоцкий монастырь находится дальше от Москвы, чем Кирилло-Белозерский монастырь.
7. Согласно карте, за пределами великого княжества Московского в представленный на ней исторический период не располагалось ни одного центра книжного дела.
8. На карте подписано такое же количество названий славянских народов, как и количество названий финно-угорских народов.
9. На карте показан только один город, одновременно являющийся центром каменного зодчества, иконописи, книжного дела и художественных промыслов.
10. На карте указано название заполярного населённого пункта, где был сожжён один из главных критиков патриарха Никона.

**Ответ: 3 4 5 8 10.**

*Балл за каждый верный выбор – 2, штрафной балл за каждый неверный выбор – 2. При выборе более 8 вариантов ответа – 0 баллов. Максимальный балл за задание – 10.*

**Задание 7.** Перед вами пять групп, содержащих по двадцать терминов. Определите в каждой группе четыре термина, которые можно логически объединить, опираясь на одно уже сделанное верное соотнесение.

алтын  
апсида  
бегунец  
донжон  
епанча  
ефимок  
закуп  
златник  
кика  
клир  
куна  
минея  
огнищанин  
одигитрия  
охабень  
плинфа  
полушка  
понёва  
просфора  
рядович  
смерд  
сорочица  
утреня  
челядин  
четверик

**Ответ:**

1 группа: **донжон**, апсида, бегунец, плинфа, четверик

2 группа: **закуп**, огнищанин, рядович, смерд, челядин

3 группа: **епанча**, кика, понёва, охабень, сорочица

4 группа: **просфора**, клир, минея, одигитрия, утреня

5 группа: **полушка**, алтын, ефимок, златник, куна

*За каждое верное соотнесение – 1 балл. Максимум за задание – 20 баллов.*

**Задание 8.** Вам предлагается решить историческую загадку. Разгадайте её и ответьте на вопросы.

Крестильное имя монарха **А** было таким же, как светское имя монархов **Б**, **В** и **Г**. Известно, что под властью и **Б**, и **В**, и **Г** находился город **1**, чьё название созвучно

светскому имени монарха А. При этом Б является более близким родственником В, чем для В приходится Г. Монарх Д, носивший такое же светское имя, как А, и скончавшийся в том же городе 2, близ которого умер А, имел внука Е, который возвёл в городе 1 храм, названный в честь его крестильного имени. Это же имя как светское носил Ж, приходившийся внуком Г. Другой монарх, известный под тем же именем, лишился власти и жизни из-за заговора З, который последним из русских монархов носил то же имя, что и Б, В и Г.

**Обратите внимание! Ответы, написанные в любых падежах, кроме именительного, а также содержащие иное количество слов, чем требуется в задании, с орфографическими ошибками и знаками препинания, засчитываться не будут.**

1. Назовите фольклорное прозвание монарха А из двух слов в именительном падеже (без лишних знаков).
2. Назовите год смерти монарха Г (четыре цифры без лишних знаков).
3. Назовите имя сына монарха Д, занявшего его престол после смерти отца, одно слово (без лишних знаков).
4. Назовите реку, возле которой погиб сын монарха Е, занявший его престол смерти отца, одно слово в именительном падеже (без лишних знаков).
5. Назовите город, в котором скончался Ж, одно слово в именительном падеже (без лишних знаков).
6. Назовите год начала правления монарха З (четыре цифры без лишних знаков).

**Ответ:**

- 1 – Красное Солнышко
- 2 – 1533
- 3 – Мстислав
- 4 – Сить
- 5 – Углич
- 6 – 1606

***По 2 балла за каждый верный ответ. Максимальный балл за задание – 12.***

**Задание 9.** Вам представлены десять статистических показателей по истории России не позднее конца XVII века. Подберите к каждому показателю соответствующее числовое значение.

Статистические показатели	Значения
1. Примерная длина пути из варяг в греки, км	А) 0,15
2. Усреднённая высота вала древнерусского городища в X веке, м	Б) 1,5
3. Диаметр золотника Владимира, мм	В) 8
4. Гипотетическая плотность населения в Северо-Восточной Руси в сер. XIII века, чел на км <sup>2</sup>	Г) 19
5. Средний размер поместья служилого человека в XVI веке, десятин	Д) 30
6. Численность дворянского конного ополчения к концу правления Ивана III, человек	Е) 300
7. Средний срок службы детей боярских, лет	Ж) 800
8. Длина Белгородской засечной черты, км	З) 2500
9. Стоимость новгородской белки в XVI век, рублей	И) 35000
10. Примерное число экспортируемых шкурок соболя в год в XVII веке, штук	К) 400000

**Ответ:**

<b>1</b>	<b>2</b>	<b>3</b>	<b>4</b>	<b>5</b>	<b>6</b>	<b>7</b>	<b>8</b>	<b>9</b>	<b>10</b>
<b>З</b>	<b>В</b>	<b>Г</b>	<b>Б</b>	<b>Е</b>	<b>И</b>	<b>Д</b>	<b>Ж</b>	<b>А</b>	<b>К</b>

*По 1 баллу за каждое верное соотнесение. Максимальный балл за задание – 10.*

**Задание 10.** 16 января 2025 года Президент Российской Федерации В.В. Путин своим указом утвердил 2025 год Годом защитника Отечества. Предлагаем вам в этой связи вспомнить важнейшее событие в истории России – Великую Отечественную войну. Выберите из предложенных ниже фрагментов песен те, которые были написаны после окончания войны.

<b>А.</b>	<b>Б.</b>
День Победы, как он был от нас далёк Как в костре потухшем таял уголёк Были вёрсты обгорелые в пыли Этот день мы приближали, как могли... Дни и ночи у мартеновских печей Не смыкала наша Родина очей Дни и ночи битву трудную вели Этот день мы приближали, как могли	Бьётся в тесной печурке огонь, На поленьях смола, как слеза, И поёт мне в землянке гармонь Про улыбку твою и глаза. Про тебя мне шептали кусты В белоснежных полях под Москвой. Я хочу, чтобы слышала ты, Как тоскует мой голос живой.

<p><b>В.</b></p> <p>Жди меня, и я вернусь, Всем смертям назло. Кто не ждал меня, тот пусть Скажет: – Повезло. Не понять, не ждавшим им, Как среди огня Ожиданием своим Ты спасла меня. Как я выжил, будем знать Только мы с тобой, – Просто ты умела ждать, Как никто другой.</p>	<p><b>Г.</b></p> <p>А в Вечном огне видишь вспыхнувший танк, Горящие русские хаты, Горящий Смоленск и горящий рейхстаг, Горящее сердце солдата. У братских могил нет заплаканных вдов – Сюда ходят люди покрепче, На братских могилах не ставят крестов... Но разве от этого легче?!</p>
<p><b>Д.</b></p> <p>Гнилой фашистской нечисти Загоним пулю в лоб, Отребью человечества Сколотим крепкий гроб! Встаёт страна огромная, Встаёт на смертный бой С фашистской силой темною, С проклятою ордой. Пусть ярость благородная Вскипает, как волна, – Идёт война народная, Священная война!</p>	<p><b>Е.</b></p> <p>Обещает быть весна долгой, Ждёт отборного зерна пашня. И живу я на земле доброй За себя и за того парня. Я от тяжести такой горблюсь, Но иначе жить нельзя, если Всё зовёт меня его голос, Всё звучит во мне его песня. А степная трава пахнет горечью, Молодые ветра зелены. Просыпаемся мы – и грохочет над полночью, То ли гроза, то ли эхо прошедшей войны.</p>

<b>Ж.</b>	<b>З.</b>
Нынче вырвалась, словно из плена, весна, – По ошибке окликнул его я: «Друг, оставь покурить!» – а в ответ – тишина... Он вчера не вернулся из боя. Наши мёртвые нас не оставят в беде, Наши павшие – как часовые... Отражается небо в лесу, как в воде, – И деревья стоят голубые. Нам и места в землянке хватало вполне, Нам и время текло – для обоих. Всё теперь – одному, – только кажется мне – Это я не вернулся из боя.	Пусть свет и радость прежних встреч Нам светят в трудный час, А коль придётся в землю лечь, Так это ж только раз. Но пусть и смерть – в огне, в дыму – Бойца не устрасит, И что положено кому – Пусть каждый совершит. Настал черед, пришла пора, – Идём, друзья, идём! За все, чем жили мы вчера, За все что завтра ждём!

**Ответ: А Г Е Ж.**

***Балл за каждый верный выбор – 2, штрафной балл за каждый неверный выбор – 2. При выборе более 6 вариантов ответа – 0 баллов. Максимальный балл за задание – 8.***